



राष्ट्रीय डिज़ाइन संस्थान
National Institute of Design
मध्यप्रदेश Madhya Pradesh

(An Institute of National Importance under DPIIT, Ministry of Commerce and Industry, Govt. of India)

क्रमांक-रा0डि0सं0म0प्र0/प्रशा/सूचना/1-70/2021/43

दिनांक 05.08.2021

प्रति,

विषय:-सूचना का अधिकार अधिनियम 2005 के अन्तर्गत सूचना बाबत।

प्रसंग:-आपकाऑनलाइन अनुरोध प्रार्थना पत्र क्रमांक एन.आइ.डी.एम पी./आर/ई/ 21/ 00043 दिनांक 14.07.2021 तथा राष्ट्रीय डिज़ायन संस्थान, मध्य प्रदेश को प्राप्ति दिनांक 14.07.2021

महोदय,

उपरोक्त विषयान्तर्गत व प्रासंगिक पत्र के क्रम में आपके द्वारा राष्ट्रीय डिज़ायन संस्थान मध्य प्रदेश से चाही गई सूचना बिन्दुवार निम्नानुसार है।

क्र0सं0	बिन्दु संख्या	प्रत्युत्तर
01	01	चाही गयी सूचना अनुलग्नक 1 में संलग्न है।
02	02	चाही गयी सूचना अनुलग्नक 2 में संलग्न है।
03	03	चाही गयी सूचना अनुलग्नक 3 में संलग्न है।
04	04	चाही गयी सूचना अनुलग्नक 4 व 5 में संलग्न है।

02. सूचना का अधिकार अधिनियम की धारा 7(8) (iii) की अनुपालना के अनुसार प्रथम अपीलीय अधिकारी का नाम तथा पत्राचार पता क्रमशः लेफिटनेट कर्नल मनीष कुमार बहुगुणा,(सेवानिवृत्त), कुलसचिव,राष्ट्रीय डिज़ायन संस्थान मध्य प्रदेश ग्राम अचारपुरा, पोस्ट अरवलिया ईट खेड़ी जिला भोपाल , मध्यप्रदेश पिन 462038 है।



श्री कृष्ण

(श्रीकृष्ण बिरमान)

केन्द्रीय लोक सूचना अधिकारी
राष्ट्रीय डिज़ायन संस्थान मध्य प्रदेश

केन्द्रीय लोक सूचना अधिकारी
Central Public Information Officer
राष्ट्रीय डिज़ायन संस्थान, मध्यप्रदेश
National Institute of Design, Madhya Pradesh

प्रतिलिपी:-

01. सहायक लोक सूचना अधिकारी,
राष्ट्रीय डिज़ायन संस्थान, मध्यप्रदेश

:- कृपया सादर सूचनार्थ ।

राष्ट्रीय डिजाइन संस्थान, मध्यप्रदेश
National Institute of Design, Madhya Pradesh



अधीक्षक पद के लिए भर्ती परीक्षा हेतु प्रश्नपत्र
Question paper for Recruitment test for the position of Superintendent

अधिकतम अंक : 120 Max Marks: 120 समय: 2 घंटे, Time: 2hours पेपर कोड- अ paper code- A

रोल न. Roll No	परीक्षार्थी के हस्ताक्षर Candidate's signature	निरीक्षक के हस्ताक्षर Invigilator's signature
<input type="text"/>	<input type="text"/>	<input type="text"/>

परीक्षार्थी को निर्देश:

- प्रवेश पत्र में दिये गये सभी कोविड-19 संबंधित दिशानिर्देश का पालन करें।
- अभ्यर्थी ओएमआर शीट में दिए गये स्थान पर अपना आवेदन संख्या, नाम और अन्य विवरण भरें।
- आवेदन संख्या के लिए दिये गये सर्कल को भरें।
- कृपया अपने पेपर कोड सर्कल को भरें, जो कि आपको दिये गये प्रश्न पत्र के उपर लिखा है।
- ओएमआर शीट पर सभी प्रासंगिक सर्कल/बॉक्स को सावधानीपूर्वक भरने के लिए बॉल प्वाइंट पेन (ब्लू या ब्लैक) का उपयोग करें, अन्यथा आपकी उत्तर पुस्तिका को अमान्य कर दिया जायेगा।
- कृपया प्रश्न संख्या के लिए संबंधित सर्कल में आपके द्वारा चुने गये सबसे उपयुक्त उत्तर / प्रतिक्रिया को भरें।
- यदि आप किसी प्रश्न के लिए एक से अधिक सर्कल भरते हैं, तो उस प्रश्न को अमान्य कर दिया जायेगा और उस प्रश्न के लिए कोई नंबर नहीं दिया जायेगा तथा 0.25 नंबर काट लिया जायेगा।
- कृपया उत्तर पत्रक पर कोई अन्य चिन्ह न करें अन्यथा उत्तर पत्रक को अमान्य कर दिया जायेगा।
- किसी भी प्रकार के अनुचित साधनों या माध्यमों का उपयोग करने के दोषी पाए गए उम्मीदवारों को अनुशासनात्मक कारवाई के लिये उत्तरदायी माना जायेगा और उनकी उत्तर पुस्तिका को अमान्य कर दिया जायेगा।
- कृपया प्रश्न पत्र के शीर्ष पर दिये गए बॉक्स में अपना रोल न. लिखें और अपना हस्ताक्षर करें।
- सभी प्रश्न अनिवार्य हैं। प्रत्येक सही उत्तर पर एक अंक दिया जायेगा। प्रत्येक गलत उत्तर के लिए 0.25 अंक काटे जाएंगे।
- केवल प्रश्न पत्र पर ही रफ कार्य किया जायेगा और इस उद्देश्य के लिये कोई अलग शीट प्रदान नहीं की जायेगी।
- यदि प्रश्न पत्र के हिन्दी व अंग्रेजी रूपान्तरण में किसी प्रकार की मुद्रण या तथ्यात्मक अस्पष्टता / गलती है, तो प्रश्न पत्र का अंग्रेजी संस्करण को मानक माना जाएगा।

Instruction to Candidate:

- Please follow all COVID 19 related guidelines given in the admit card.
- Candidate should fill their Roll No., name and other details in the space provided in the OMR Sheet. Darken the circle under the Roll No./ Application No.
- Please darken your paper code, depending upon the set of paper provided to you.

- Use ball point pen (Blue or Black) to fill up or darken all the relevant circles/boxes on the OMR Sheet carefully, otherwise your answer Sheet will be invalidated.
- Please darken the most appropriate answer/response chosen by you in the corresponding circle against the question no.
- If you darken more than one circle against a question, the answer/ response to that question will be invalidated, no mark will be assigned to you for that question and 0.25 mark shall be deducted.
- Please do not make any other marks ELSEWHERE on the answer sheet or else the answer sheet will be invalidated.
- Candidates found guilty of using unfair means of any nature shall be liable for disciplinary action and their answer sheets shall be rejected.
- Please also write your Roll No. and put your signatures in the boxes given at the top of question paper.
- All questions are mandatory. Each correct answer shall be awarded one mark. 0.25 mark shall be deducted for each wrong answer.
- Rough work is required to be done on the question paper only and no separate sheet will be provided for this purpose.
- If there is any sort of ambiguity / mistake either of printing or factual nature in Hindi and English version of the question paper, the English version will be treated as Standard

MCQ SINGLE CORRECT

1. Choose the correct spelling
 - (a) Acronim
 - (b) Accronym
 - (c) Acronym
 - (d) Acheronym
2. Choose the correct spelling
 - (a) Homeopatty
 - (b) Hommeopathy
 - (c) Homeupathy
 - (d) Homeopathy
3. Select the word with correct spelling
 - (a) Cruciel
 - (b) Crucieal
 - (c) Crucial
 - (d) Crrucial
4. Select the word with correct spelling
 - (a) COMUNICATION
 - (b) COMMUNIKATION
 - (c) COMMUNICATION
 - (d) COMMUNICCCATION

5. Select the word with correct spelling

- (a) INTERROGATION
- (b) INTEROGATION
- (c) INTEROGASION
- (d) ENTROGATION

6. Which of the following options is appropriate passive voice of the given sentence?

They opened the theatre only last month.

- (a) Only last month they opened theatre.
- (b) The theatre was opened only last month.
- (c) The theatre got open only last month.
- (d) Only last month theatre was opened

7. Which of the following options is appropriate passive voice of the given sentence?

The boy's work pleased the teacher.

- (a) The boy's pleased teacher from the work
- (b) The boy's work made the teacher pleased
- (c) The teacher was pleased with the boy's work
- (d) The teacher was pleased with work of the boy

8. In the following sentence find out which part of the sentence has an error.

Being the only people there (a) / their presence was (b) / most important (c) / No error (d)

- (a) Being the only people there
- (b) their presence was
- (c) most important
- (d) No error

9. In the four parts of the sentences given, ONE part has some mistake/ error. Identify that part.

- (a) I am disappointed in
- (b) not having saw any place
- (c) while I was in
- (d) Delhi on vacation.

10. In the four parts of the sentences given, ONE part has some mistake/ error. Identify that part.

- (a) If I fail in
- (b) this examination
- (c) I shall give

(d) the next examination.

11. Antonym of **Pillage** is:

- (a) Lavish
- (b) Protect
- (c) Known
- (d) Induce

12. Antonym of **Pandemonium** is:

- (a) Silence
- (b) Nuisance
- (c) Emerge
- (d) Educate

13. Choose the word which is the MOST OPPOSITE in meaning to the word "HARD"

- (a) Mockingly
- (b) Badly
- (c) Leisurely
- (d) Softly

14. Choose the word which is most nearly the OPPOSITE in meaning as the word given "VIABLE"

- (a) Impossible
- (b) Practical
- (c) Negative
- (d) Positive

15. Choose the word which is most nearly the OPPOSITE in meaning as the word given "PRUDENT"

- (a) Act
- (b) Policy
- (c) Reckless
- (d) Agree

16. Give the synonym of **Pernicious**

- (a) Scores
- (b) Mass
- (c) Legal
- (d) Destructive

17. Give the synonym of **Plausible**

- (a) Reasonable
- (b) Slight

(c) Vague

(d) Lack

18. Give the synonym of **Profuse**

(a) Immense

(b) Large

(c) Abundant

(d) Join

19. Choose the word which is the MOST SIMILAR in meaning to the word
"CAPACIOUS"

(a) Rebellion

(b) Spacious

(c) Entangle

(d) Imperil

20. Choose the word which is the MOST SIMILAR in meaning to the word
"VALIANT"

(a) Evolutive

(b) Franchise

(c) Charge

(d) Gallant

21. Choose the word which is most nearly the SAME in meaning as the word given
"FATAL"

(a) Inventive

(b) Lively

(c) Quick

(d) Deadly

22. Choose the word which is most nearly the SAME in meaning as the word given
"REPERCUSSION"

(a) Collection

(b) Remuneration

(c) Clever

(d) Reaction

23. Choose the word which is most nearly the SAME in meaning as the word given
"ACERBIC"

(A) Bitter

(B) Furious

(C) Arrogant

(D) Childish

24. Fill up the blanks with appropriate Preposition:

That company has a monopoly ...copper.

- (a) at
- (b) of
- (c) in
- (d) to

25. Fill up the blanks with appropriate Preposition:

Greece is noted...its beautiful islands.

- (a) in
- (b) to
- (c) after
- (d) for

26. Fill up the blanks with appropriate Preposition:

I expressed my opinion ...the political situation.

- (a) in
- (b) by
- (c) on
- (d) at

27. Fill in the blanks with a suitable word in the following sentence: -

Frank's uncle was.....the right for royalty of his grandfather's book after the old man died

- (a) Holding
- (b) Acquiring
- (c) Trying
- (d) Giving

28. *Correct the sentence by selecting the appropriate option in place of the underlined portion.*

I am tired as I am working since 7 O'clock in the morning.

- (a) I was working
- (b) I had been working
- (c) I have been working
- (d) I will be working

29. *Correct the sentence by selecting the appropriate option in place of the underlined portion.*

I knew that they were heading into a serious disaster.

- (a) heading at
- (b) heading for
- (c) heading along
- (d) heading towards

30. Correct the sentence by selecting the appropriate option in place of the underlined portion.

You are requested to take out your shoes before entering.

- (a) take off
- (b) take on
- (c) put off
- (d) No correction required

31. The rate of evaporation increases with -

- (a) An increase in humidity
- (b) An increase of surface Area
- (c) A decrease in temperature
- (d) None of the above all

32. IPv6 addresses have a size of -

- (a) 32 bits
- (b) 64 bits
- (c) 256 bits
- (d) 128 bits

33. Who was the winner of the Australian Grand Prix-2019?

- (a) Valtteri Bottas
- (b) Lewis Hamilton
- (c) Charles Leclerc
- (d) Max Verstappen

34. 'Amazing Ayodhya' written by -

- (a) Priyavada
- (b) S. Jay Shonker
- (c) Neena Rai
- (d) Gautam Acharya

35. Social media campaign 'My BO' is related to the following -

- (a) My Boston
- (b) My Bombay

31. वाष्पीकरण की दर कब बढ़ जाती है

- (अ) आर्द्रता में वृद्धि
- (ब) सतह क्षेत्र में वृद्धि
- (स) तापमान में कमी
- (द) उपरोक्त में से कोई नहीं

32. IPv6 पत्तों का आकार होता है।

- (अ) 32 बिट
- (ब) 64 बिट
- (स) 256 बिट
- (द) 128 बिट

33. ऑस्ट्रेलियन ग्रांड प्रिक्स-2019 का विजेता कौन था ?

- (अ) वाल्टेरी बोटस
- (ब) लुईस हैमिल्टन
- (स) चार्ल्स लेक्लर
- (द) मैक्स वेरस्टैपेन

34. अद्भुत अयोध्या किसके द्वारा रचित है ?

- (अ) प्रियनवाद
- (ब) एस जय शोंकर
- (स) नीना राय
- (द) गौतम आचार्य

35. सोशल मीडिया अभियान 'माई बीओ' निम्नलिखित में से किससे संबंधित है?

- (अ) माई बोस्टन
- (ब) माई बॉम्बे
- (स) बराक ओबामा

(c) Barak Obama

(d) My Boden

36. Which country's contingent took part in Republic Day Parade on January 26, 2021?

(a) Bangladesh

(b) Nepal

(c) Saudi Arabia

(d) UAE

37. 'Mock Egg' has been developed by the scientists from:

(a) Indian Institute of Science Bengaluru

(b) Indian Institute of Technology, Delhi

(c) National Institute of Nutrition, Hyderabad

(d) National Poultry Research Institute, Hyderabad

38. Tharu Tribe in Uttar Pradesh is not found in which district

(a) Balrampur

(b) Sonbhadra

(c) Bahraich

(d) Pilibhit

39. Which of the following is not a commercial crop?

(a) Cotton

(b) Jute

(c) Potato

(d) Sugarcane

40. Which of the following pairs is not matched correctly?

(a) Periyar Sanctuary - Kerala

(b) Shivpuri National Park - Madhya Pradesh

(c) Dachigam Sanctuary - Jammu & Kashmir

(d) Ranthambore Tigre Project - Gujarat

41. Concept of positive discrimination has constitutional backing through Article.....of the constitution

(a) 14

(b) 15

(c) 16

(d) माई बोडेन

36. 26 जनवरी, 2021 को गणतंत्र दिवस परेड में किस देश की टुकड़ी ने भाग लिया?

(अ) बांग्लादेश

(ब) नेपाल

(स) सऊदी अरब

(द) यूरेई

37. किनके वैज्ञानिकों के द्वारा 'मॉक एग' विकसित किया गया है?

(अ) भारतीय विज्ञान संस्थान बेंगलुरु

(ब) भारतीय प्रौद्योगिकी संस्थान, दिल्ली

(स) राष्ट्रीय पोषण संस्थान, हैदराबाद

(द) राष्ट्रीय कुक्कुट अनुसंधान, हैदराबाद

38. उत्तर प्रदेश में थारू जनजाति किस जिले में नहीं पाई जाती है?

(अ) बलरामपुर

(ब) सोनभद्र

(स) बहराइच

(द) पीलीभीत

39. निम्नलिखित में से कौन एक व्यावसायिक फसल नहीं है ?

(अ) कपास

(ब) जूट

(स) आलू

(द) गन्ना

40. निम्नलिखित में से कौन-सा युग्म सही सुमेलित नहीं है ?

(अ) पेरियार अभयारण- केरल

(ब) शिवपुरी राष्ट्रीय उद्यान - मध्यप्रदेश

(स) दाक्षीगाम अभयारण- जम्मू और कश्मीर

(द) रणथम्भौर टाइगर प्रोजेक्ट- गुजरात

41. सकारात्मक भेदभाव की अवधारणा को संविधान के अनुच्छेद..... के माध्यम से संवैधानिक समर्थन प्राप्त है।

(अ) 14

(ब) 15

(स) 16

(द) 15 और 16

48. If $2^x = \sqrt[3]{32}$, then x is equal to

- (a) $(3)/(5)$
(b) $(5)/(3)$
(c) $7/3$
(d) $(11)/3$

49. If the day after tomorrow is Tuesday. What day will two days after the day after tomorrow be?

- (a) Monday
(b) Wednesday
(c) Thursday
(d) Sunday

50. A man travels 4 km due North, then travels 6 km due East and further travels 4 km due North. How far he is from the starting point?

- (a) 10 KM
(b) 12 KM
(c) 14 KM
(d) 16 KM

51. An elephant of length 4 m is at one corner of a rectangular cage of size (16 m x 30 m) and faces towards the diagonally opposite corner. If the elephant starts moving towards the diagonally opposite corner it takes 15 seconds to reach this corner. Find the speed of elephant.

- (a) 1 m/sec
(b) 2 m/sec
(c) 1.87 m/sec
(d) 1.5 m/sec

52. If $A : B = 7 : 9$ and $B : C = 3 : 5$ then $A : B : C$ is equal to

- (a) 7:9:5
(b) 21:35:45
(c) 7:9:15
(d) 7:3:15

53. The average monthly income of P and Q is Rs 5050. The average monthly income of Q and R is Rs 6250 and the average monthly income of P and R is Rs 5200. The monthly income of P is :

- (a) Rs 3500 (c) Rs 4050
(b) Rs 4000 (d) Rs 5000

48. यदि $2^x = \sqrt[3]{32}$ तो x बराबर होगा ?

- (अ) $(3)/(5)$
(ब) $(5)/(3)$
(स) $7/3$
(द) $(11)/3$

49. यदि परसों के बाद का दिन मंगलवार है, तो परसों के दो दिन बाद कौन सा वार होगा ?

- (अ) सोमवार
(ब) बुधवार
(स) गुरुवार
(द) रविवार

50. एक व्यक्ति उत्तर की ओर 4 किमी की यात्रा करता है फिर पूर्व की ओर 6 किमी की यात्रा करता है और आगे उत्तर की ओर 4 किमी की यात्रा करता है। वह आरंभिक बिंदु से कितनी दूर है?

- (ए) 10 किमी
(बी) 12 किमी
(सी) 14 किमी

(डी) 16 किमी

51. 4 मीटर लम्बा एक हाथी एक आयताकार पिंजरे (16 मी. x 30 मी.) के एक कोने पर है और इसका मुख तिरछे विपरित कोने की ओर है। यदि हाथी तिरछे विपरित कोने की ओर बढ़ना शुरू करता है तो उसे इस कोने तक पहुँचने में 15 सेकंड का समय लगता है तो हाथी की गति ज्ञात कीजिए ?

- (अ) 1 मी./सेकंड
(ब) 2 मी./सेकंड
(स) 1.87 मी./सेकंड
(द) 1.5 मी./सेकंड

52. यदि $A : B = 7 : 9$ और $B : C = 3 : 5$ तो $A : B : C$ किसके बराबर है।

- (अ) 7:9:5
(ब) 21:35:45
(स) 7:9:15
(द) 7:3:15

53. पी और क्यू की औसत मासिक आय 5050 रुपये है, क्यू और आर की औसत मासिक आय 6250 रुपये है और पी और आर की औसत मासिक आय 5200 रुपये है तो पी की मासिक आय क्या होगी ?

- (अ) 3500 रु. (स) 4050 रु.
(ब) 4000 रु. (द) 5000 रु.

- (d) 15 and 16
42. Which is the second largest state in India in terms of area?
- (a) Madhya Pradesh
(b) Maharashtra
(c) Rajasthan
(d) Tamil Nadu
43. Which of the following state does NOT share its boundary with Madhya Pradesh?
- (a) Uttar Pradesh
(b) Maharashtra
(c) Bihar
(d) Gujrat
44. How many Lok Sabha MP seats are there in Madhya Pradesh ?
- (a) 24
(b) 26
(c) 30
(d) 29
45. Which of the following river does not flow in Madhya Pradesh state?
- (a) Betwa
(b) Shipra
(c) Krishna
(d) Narmada
46. If $a = 0.1039$, then the value of $\sqrt{(4a^2 - 4a + 1)} + 3a$ is --
- (a) 1.1039
(b) 2.1039
(c) 0.1039
(d) 0.1049
47. 10 years ago, the average age of a family of 4 members was 24 years. Two children having been born (with age difference of 02 years), the present average age of the family is the same. The present age of the youngest child is-
- (a) 3 years
(b) 5 years
(c) 6 years
(d) 7 years
- क्षेत्रफल की दृष्टि से भारत का दूसरा सबसे बड़ा राज्य कौन सा है ?
- (अ) मध्यप्रदेश
(ब) महाराष्ट्र
(स) राजस्थान
(द) तमिलनाडु
43. निम्नलिखित में से कौनसे राज्य की सीमा मध्यप्रदेश से नहीं लगती है ?
- (अ) उत्तरप्रदेश
(ब) महाराष्ट्र
(स) बिहार
(द) गुजरात
44. मध्यप्रदेश में लोकसभा सांसद की कितनी सीटें हैं ?
- (अ) 24
(ब) 26
(स) 30
(द) 29
45. निम्न में से कौनसी नदी मध्यप्रदेश राज्य में नहीं बहती है ?
- (अ) बेतवा
(ब) क्षिप्रा
(स) कृष्णा
(द) नर्मदा
46. यदि $a = 0.1039$ तो $\sqrt{(4a^2 - 4a + 1)} + 3a$ का मान..... है ।
- (अ) 1.1039
(ब) 2.1039
(स) 0.1039
(द) 0.1049
47. 10 वर्ष पहले, 4 सदस्यों के परिवार की औसत आयु 24 वर्ष थी। दो बच्चों के जन्म (02 वर्ष की आयु के अंतर के साथ), परिवार की वर्तमान औसत आयु समान है तो सबसे छोटे बच्चे की वर्तमान आयु क्या होगी ?
- (अ) 3 वर्ष
(ब) 5 वर्ष
(स) 6 वर्ष
(द) 7 वर्ष

48. If $2^x = \sqrt[3]{32}$, then x is equal to

- (a) $(3/5)$
(b) $(5/3)$
(c) $7/3$
(d) $(11/3)$

49. If the day after tomorrow is Tuesday. What day will two days after the day after tomorrow be?

- (a) Monday
(b) Wednesday
(c) Thursday
(d) Sunday

50. A man travels 4 km due North, then travels 6 km due East and further travels 4 km due North. How far he is from the starting point?

- (a) 10 KM
(b) 12 KM
(c) 14 KM
(d) 16 KM

51. An elephant of length 4 m is at one corner of a rectangular cage of size (16 m x 30 m) and faces towards the diagonally opposite corner. If the elephant starts moving towards the diagonally opposite corner it takes 15 seconds to reach this corner. Find the speed of elephant.

- (a) 1 m/sec
(b) 2 m/sec
(c) 1.87 m/sec
(d) 1.5 m/sec

52. If $A : B = 7 : 9$ and $B : C = 3 : 5$ then $A : B : C$ is equal to

- (a) 7:9:5
(b) 21:35:45
(c) 7:9:15
(d) 7:3:15

53. The average monthly income of P and Q is Rs 5050. The average monthly income of Q and R is Rs 6250 and the average monthly income of P and R is Rs 5200. The monthly income of P is :

- (a) Rs 3500 (c) Rs 4050

48. यदि $2^x = \sqrt[3]{32}$ तो x बराबर होगा ?

- (अ) $(3)/(5)$
(ब) $(5)/(3)$
(स) $7/3$
(द) $(11)/3$

49. यदि परसों के बाद का दिन मंगलवार है, तो परसों के दो दिन बाद कौन सा वार होगा ?

- (अ) सोमवार
(ब) बुधवार
(स) गुरुवार
(द) रविवार

50. एक व्यक्ति उत्तर की ओर 4 किमी की यात्रा करता है फिर पूर्व की ओर 6 किमी की यात्रा करता है और आगे उत्तर की ओर 4 किमी की यात्रा करता है। वह आरंभिक बिंदु से कितनी दूर है?

- (ए) 10 किमी
(बी) 12 किमी
(सी) 14 किमी

(डी) 16 किमी

51. 4 मीटर लम्बा एक हाथी एक आयताकार पिंजरे (16 मी. x 30 मी.) के एक कोने पर है और इसका मुख तिरछे विपरीत कोने की ओर है। यदि हाथी तिरछे विपरीत कोने की ओर बढ़ना शुरू करता है तो उसे इस कोने तक पहुँचने में 15 सेकंड का समय लगता है तो हाथी की गति ज्ञात कीजिए ?

- (अ) 1 मी./सेकंड
(ब) 2 मी./सेकंड
(स) 1.87 मी./सेकंड
(द) 1.5 मी./सेकंड

52. यदि $A : B = 7 : 9$ और $B : C = 3 : 5$ तो $A : B : C$ किसके बराबर है।

- (अ) 7:9:5
(ब) 21:35:45
(स) 7:9:15
(द) 7:3:15

53. पी और क्यू की औसत मासिक आय 5050 रुपये है, क्यू और आर की औसत मासिक आय 6250 रुपये है और पी और आर की औसत मासिक आय 5200 रुपये है तो पी की मासिक आय क्या होगी ?

- (अ) 3500 रु. (स) 4050 रु.
(ब) 4000 रु. (द) 5000 रु.

54. If $(x-5x+8) = (x+2)(x-3)+y$, then find the value of x when $y = 2$, ?
- (a) -2
(b) 3
(c) -3
(d) 2
55. If $X^2 - 5x - 24 = 0$ then find the value of x
- (a) +8,-3
(b) +8,+3
(c) -8,-3
(d) -8,+3
56. In college, out of 300 students, every student reads 5 news papers and every newspaper is read by 60 students. The total number of newspapers is :
- (a) At most 90
(b) At least 30
(c) 25
(d) None of these
57. A alone can do a work in 12 days and B alone in 18 days. If C takes twice as long as A and B together, how long will B and C together take to complete the same work?
- (a) 10 days
(b) 12 days
(c) 8 days
(d) 9 days
58. Ramesh sells a table to Rupesh at 10 % profit. Rupesh sells it to Mukesh for 15 % profit. If Mukesh pays Rs. 506 for it, what is the price at which Ramesh bought the table?
- (a) 420 Rupees
(b) 450 Rupees
(c) 400 Rupees
(d) 380 Rupees
59. Which of the following is divisible by 19?
- (a) 822284
54. यदि $(x-5x+8) = (x+2)(x-3)+y$ तो x का मान ज्ञात कीजिए जब $y = 2$?
- (अ) -2
(ब) 3
(स) -3
(द) 2
55. यदि $X^2 - 5x - 24 = 0$ तो x का मान ज्ञात कीजिए
- अ) +8,-3
(ब) +8,+3
(स) -8,-3
(द) -8,+3
56. कॉलेज में 300 छात्रों में से प्रत्येक छात्र 5 समाचार पत्र पढ़ता है और प्रत्येक समाचार पत्र 60 छात्र पढ़ते हैं तो समाचार पत्रों की कुल संख्या है:
- (अ) अधिकतम 90
(ब) कम से कम 30
(स) 25
(द) इनमें से कोई नहीं
57. A अकेला एक काम को 12 दिनों में और B अकेला उसी काम को 18 दिनों में कर सकता है। यदि C, A और B से मिलाकर दुगना समय लेता है, तो B और C मिलकर उसी कार्य को पूरा करने में कितना समय लेंगे ?
- (अ) 10 दिन
(ब) 12 दिन
(स) 8 दिन
(द) 9 दिन
58. रमेश 10% लाभ पर रूपेश को एक मेज बेचता है। रूपेश ने इसे मुकेश को 15% लाभ पर बेच दिया। यदि मुकेश ने इस मेज को 506 रु. में कय किया है तो रमेश ने उसी मेज को कितने रुपये में खरीदी है ?
- (अ) 420 रु.
(ब) 450 रु.
(स) 400 रु.
(द) 380 रु.
59. निम्न में कौन सी संख्या 19 से विभाज्य है ?
- (अ) 822284

(b) 754836

(c) 513110

(d) 554781

60. Ravi and Kishan leave a point at the same time. Ravi travels South at the speed of 16 km/ hour and Kishan towards east at 16 km/ hour. What is the distance between Ravi and Kishan after 4 hours?

(a) 80 km

(b) 112 km

(c) 92 km

(d) 96 km

61. Supernumerary post is a:

(a) Adhoc post

(b) Permanent post

(c) Temporary post

(d) Ex-cadre post

62. A Government employee is required to obtain prior permission for undertaking the work or rendering any service and to accept fee therefore, in terms of:

(a) FR 9(6A)

(b) FR 46(a)

(c) FR 46(b)

(d) FR 48

63. For Travel entitlements in case of journey by rail, air or road, employees on the basis of their Grade Pay, have been categorised into..... categories:

(a) 3

(b) 4

(c) 5

(d) None of the above

64. The maximum amount of leave (of all kinds) that a Government servant can normally avail in continuity is :

(a) 300 days

(b) 01 year

(c) 03 years

(ब) 754836

(स) 513110

(द) 554781

60. रवि और किशन एक ही समय में एक बिंदु छोड़ते हैं। रवि 16 किमी/घंटा की गति से दक्षिण की यात्रा करता है और किशन पूर्व की ओर 16 किमी/घंटा की गति से यात्रा करता है। 4 घंटे के बाद रवि और किशन के बीच की दूरी क्या होगी ?

(अ) 80 किमी.

(ब) 112 किमी.

(स) 92 किमी.

(द) 96 किमी.

61. सुपरन्यूमेरी पद हैं।

(अ) एडहॉक पद

(ब) स्थायी पद

(स) अस्थायी पद

(द) पूर्व संवर्ग पद

62. निम्न किस नियम के अनुसार एक सरकारी कर्मचारी को काम करने या कोई सेवा प्रदान करने और शुल्क स्वीकार करने के लिये पूर्व अनुमति प्राप्त करने की आवश्यकता होती है ?

(अ) FR 9(6A)

(ब) FR 46(a)

(स) FR 46(b)

(द) FR 48

63. सरकारी कर्मचारियों को उनके ग्रेड पे के आधार पर रेल, हवाई या सड़क मार्ग से यात्रा करने के मामले में पात्रता के लियेश्रेणियों में वर्गीकृत किया गया है।

(अ) 3

(ब) 4

(स) 5

(द) उपरोक्त में से कोई नहीं

64. एक सरकारी कर्मचारी सामान्य रूप से लगातार अधिकतम अवधि (सभी प्रकार) छुट्टी के रूप में प्राप्त कर सकता है।

(अ) 300 दिन

(ब) 1 वर्ष

(स) 3 वर्ष

(द) 5 वर्ष

- (d) 05 years
65. If the child is studying in LKG/UKG/Nursery, educational assistance is :
- (a) Admissible if the child is at least 5 years of age
 (b) Admissible if the school is a recognized institution
 (c) Not admissible
 (d) None of the above
66. A bidder's bid security will be forfeited if the bidder:
- (a) Withdraws or amends its / his tender
 (b) Impairs or derogates from the tender in any respect within the period of validity of the tender
 (c) None of the above
 (d) Both (a) and (b) of above
67.makes it mandatory for Ministries / Departments to receive all bids through e-procurement portals in respect of all procurements.
- (a) GFR 2017 (Rule 155)
 (b) GFR 2017 (Rule 160)
 (c) Both (a) and (b)
 (d) None of the above
68. Which one of the following factors may be taken into consideration while selecting Faculty at the Institute?
- (a) Linguistic ability
 (b) A fair degree of general mental ability
 (c) A positive outlook on life
 (d) All of the above
69. Is an initiative by the Government of India to provide psychological support and counselling to students, teachers and families for mental health and emotional well-being
- (a) Swayam
 (b) Manodarpan
65. यदि बच्चा एलकेजी/यूकेजी/नर्सरी में पढ़ रहा तो शैक्षिक सहायता होगी:
 (अ) यदि बच्चे की आयु कम से कम पांच वर्ष की है तो स्वीकार्य है।
 (ब) यदि स्कूल मान्यता प्राप्त है तो स्वीकार्य है।
 (स) स्वीकार्य नहीं है।
 (द) उपरोक्त में से कोई नहीं
66. एक बिडर की किस स्थिति में बिड सुरक्षा निधि जब्त कर ली जायेगी।
 (अ) अपनी निविदा वापस लेता है या संशोधन करता है।
 (ब) निविदा की वैध अवधि के भीतर किसी प्रकार से निविदा को खराब अथवा अवहेलना करता है।
 (स) उपरोक्त में से कोई नहीं
 (द) उपरोक्त अ और ब दोनों
67. मंत्रालय/विभागों के लिये सभी खरीद के संबंध में ई-प्रोक्योरमेंट पोर्टल के माध्यम से सभी बोलियां प्राप्त करना अनिवार्य बनाता है।
 (अ) GFR 2017 (Rule 155)
 (ब) GFR 2017 (Rule 160)
 (स) (अ) और (ब) दोनों
 (द) उपरोक्त में कोई नहीं
68. संस्थान में संकाय का चयन करते समय किस कारक को ध्यान में रखा जा सकता है ?
 (अ) भाषाई क्षमता
 (ब) सामान्य मानसिक क्षमता की एक उचित डिग्री
 (स) जीवन पर एक सकारात्मक दृष्टिकोण
 (द) उपरोक्त सभी
69. मानसिक स्वास्थ्य और भावनात्मक भलाई के लिये छात्रों, शिक्षकों और परिवारों को मनोवैज्ञानिक सहायता प्रदान करने के लिये भारत सरकार के द्वारा एक पहल है।
 (अ) स्वयं
 (ब) मनोदर्पण
 (स) उपरोक्त दोनों
 (द) उपरोक्त में से कोई नहीं

(c) Both of the above

(d) None of the above

70. Reservation do not apply to:

(a) Deputation / Absorption

(b) Promotion by selection method from Group A post to another Group A

(c) Single post cadres

(d) All of the above

71. Who will be the authorised signatory to issue SC/ST certificates?

(a) Revenue Officer

(b) District Magistrate

(c) Chief Presidency Magistrate

(d) All of the above

72. As per.....no citizen shall, on grounds only of religion, race, caste, sex, descent, place of birth, residence, or any of them, be ineligible for, or discriminated against in respect of any employment or office under the state.

(a) Article 16 (1)

(b) Article 16 (2)

(c) Article 16 (3)

(d) Article 16 (4)

73. The total reservation limit for SCs, STs and OBCs should not exceed:

(a) 15%

(b) 7.5%

(c) 27%

(d) 50%

74. A reservation roster for the Persons with Benchmark Disabilities shall have cycles of.....points and each cycle shall be divided into.....blocks.

(a) 50,4

(b) 50,2

(c) 100,4

(d) 100,2

70. आरक्षण लागू नहीं होता है:

(अ) प्रतिनियुक्ति/समावेश

(ब) समूह के पद से दूसरे समूह के पद में चयन विधि द्वारा पदोन्नति

(स) सिंगल पोस्ट कैडर

(द) उपरोक्त सभी

71. एसी/एसटी प्रमाण पत्र जारी करने के लिये अधिकृत हस्ताक्षरकर्ता कौन होगा ?

(अ) राजस्व अधिकारी

(ब) जिला मजिस्ट्रेट

(स) मुख्य प्रेसीडेंसी मजिस्ट्रेट

(द) उपरोक्त सभी

72. कोई भी नागरिक साथ केवल धर्म, मूलवंश, जाति,लिंग,वंश,जन्म स्थान, निवास या इनमें से किसी आधार पर राज्य के किसी भी रोजगार अथवा कार्यालय के संबंध में अपात्र या उसके साथ के..... अनुसार भेदभाव नहीं किया जा सकता है।

(अ) अनुच्छेद 16 (1)

(ब) अनुच्छेद 16 (2)

(स) अनुच्छेद 16 (3)

(द) अनुच्छेद 16 (4)

73. अनु.जाति,अनु.जनजाति और अ.पि.व. के लिए कुल आरक्षण सीमा से अधिक नहीं होना चाहिए।

(अ) 15%

(ब) 7.5%

(स) 27%

(द) 50%

74. बेंचमार्क विकलांग व्यक्तियों के लिए आरक्षण रोस्टर मेंअंको का चक्र होगा और प्रत्येक चक्र कोब्लॉक में विभाजित किया जाएगा।

(अ) 50,4

(ब) 50,2

(स) 100,4

(द) 100,2

75. Reservation to ex-servicemen is made in the following manner of
- (a) Ten per cent of the vacancies in the posts upto of the level of the Assistant Commandant in all para-military forces.
- (b) Ten per cent of the vacancies in Group C posts
- (c) Twenty per cent of the vacancies in Group D posts
- (d) All of the above
76. An application for information should contain not more than.....words for the purpose of RTI ?
- (a) 300 W
- (b) 400 W
- (c) 500 W
- (d) 600 W
77. 'Deemed Refusal' under the RTI Act is :
- (a) A failure to provide information by PIO within stipulated time
- (b) An FAA's refusal to hear a first appeal within 30 days
- (c) An Applicant's refusal to pay fees
- (d) An APIO's refusal to provide information on request by an Applicant
78. What is the basic objective of Right to Information Act?
- (a) To promote transparency and accountability in the working of the Government
- (b) To contain corruption
- (c) To enhance people's participation in democratic process
- (d) All the above
79. When should a second appeal be filed under Section 19 of the RTI act?
- (a) Within 30 days
- (b) Within 60 days
- (c) Within 90 days
- (d) Within 180 days
75. भूतपूर्व सैनिकों के लिये आरक्षण का निम्नप्रकार.....से किया जाता है।
(अ) सभी अर्द्धसैन्य बलों में सहायक समादेष्टा स्तर तक के पदों की रिक्तियों का 10 प्रतिशत ।
(ब) समूह स पदों की रिक्तियों का 10 प्रतिशत
(स) समूह घ पदों की रिक्तियों का 20 प्रतिशत
(द) उपरोक्त सभी
76. आरटीआई के प्रयोजन हेतु सूचना प्राप्त करने के लिये एक आवेदनशब्दों से अधिक का नहीं होना चाहिए ?
(अ) 300 शब्द
(ब) 400 शब्द
(स) 500 शब्द
(द) 600 शब्द
77. सूचना का अधिकार अधिनियम के तहत डिम्ड इनकार है:
(अ) लोक सूचना अधिकारी के द्वारा निर्धारित समय सीमा में सूचना प्रदान नहीं करना।
(ब) प्रथम अपील अधिकारी के द्वारा 30 दिन के भीतर सुनवाई नहीं करना।
(स) आवेदनकर्ता के द्वारा शुल्क का भुगतान नहीं करना
(द) सहा. लोक सूचना अधिकारी के आवेदनकर्ता को सूचना मुहैया करवाने से इन्कार।
78. सूचना का अधिकार अधिनियम का मौलिक उद्देश्य क्या है ?
(अ) सरकार के कार्यशैली में पारदर्शिता और जवाबदेही को बढ़ावा देना।
(ब) भ्रष्टाचार को रोकने के लिये।
(स) लोकतांत्रिक प्रक्रिया में लोगों की भागीदारी बढ़ाने के लिये।
(द) उपरोक्त सभी।
79. सूचना का अधिकार अधिनियम की धारा 19 के तहत कितने के भीतर द्वितीय अपील दायर की जाना चाहिये ?
(अ) 30 दिनों के भीतर।
(ब) 60 दिनों के भीतर।
(स) 90 दिनों के भीतर।
(द) 180 दिनों के भीतर

80. As per the amended Child Care Leave (CCL), which of the following statements is not correct.

- (a) CCL may be granted at 100% of the leave salary for the first 365 days and 80% of the leave salary for the next 365 days
- (b) CCL may be extended to single male parents who may include unmarried or widower or divorcee employees
- (c) CCL may be granted to a female employee proportionate to the length of service rendered.
- (d) For single female Government servants, the CCL may be granted for six spells in a calendar year. However, for other eligible Government servants, it will continue to be granted for a maximum of 3 spells in a calendar year.

81. Period of probation for Promotion from one grade to another but within the same group of posts shall be :

- (a) Two years
- (b) One year
- (c) At the discretion of Appointing Authority
- (d) No Probation

82. The Consolidated Fund of India is defined under which Article of the Constitution?

- (a) Article 266 (1)
- (b) Article 267 (1)
- (c) Article 268 (1)
- (d) Article 269 (1)

83. Joining Time may be combined with the following leave except

- (a) Earned Leave
- (b) Half Pay Leave
- (c) Casual Leave
- (d) Extra Ordinary Leave

84. What is the revised percentage of bid security required to be deposited by bidders in the case of Limited or Advertised Tender Enquiry in view of current COVID Scenario?

- (a) 1

80. संशोधित शिशु देखभाल अवकाश (सीसीएल) अनुसार निम्न में स कौन सा कथन सत्य नहीं है ?

- (अ) सीसीएल को पहले 365 दिनों के लिये छुट्टी वेतन के 100 प्रतिशत और अगले 365 दिनों के लिये छुट्टी वेतन के 80 प्रतिशत पर दिया जा सकता है।
- (ब) सीसीएल को एकल पुरुष माता-पिता तक विस्तारित किया जा सकता है जिसमें अविवाहित या विधुर या तलाकशुदा कर्मचारी शामिल हो सकते हैं।
- (स) सीसीएल एक महिला कर्मचारी को प्रदान की गई सेवा की लंबाई के अनुपात में दी जा सकती है।
- (द) एकल महिला सरकारी सेवकों के लिए, एक कैलेंडर वर्ष छ बार सीसीएल दिया जा सकता है। हालांकि, अन्य पात्र सरकारी कर्मचारियों के लिए, यह एक कैलेंडर वर्ष में अधिकतम 3 बार के लिये दिया जाता रहेगा।

81. एक ग्रेड से दूसरी ग्रेड में लेकिन एक ही समूह के पदों पर पदोन्नति के लिये परिवीक्षा की अवधि क्या होगी।

- (अ) दो वर्ष
- (ब) एक वर्ष
- (स) नियुक्ति प्राधिकारी के विवेक पर
- (द) कोई परिवीक्षा नहीं

82. भारत की संघित निधि को संविधान के किस अनुच्छेद के तहत परिभाषित किया गया है ?

- (अ) अनुच्छेद 266(1)
- (ब) अनुच्छेद 267(1)
- (स) अनुच्छेद 268(1)
- (द) अनुच्छेद 269(1)

83. निम्नलिखित में से किस अवकाश को छोड़कर कार्यभार ग्रहण करने समय को अवकाश के साथ जोड़ा जा सकता है।

- (अ) अर्जित अवकाश
- (ब) अर्द्धवैतनिक अवकाश
- (स) आकस्मिक अवकाश
- (द) असाधारण अवकाश

84. वर्तमान कोविड परिदृश्य के मध्यनजर सीमित या विज्ञापित निविदा पूछताछ के मामले में बोलीदाता के द्वारा जमा की जाने वाली सुरक्षा निधि का संशोधित प्रतिशत कितना है ?

- (अ) 1
- (ब) 2

- (b) 2
(c) 5
(d) None of the above
85. What is the minimum no. of days which can be granted as Child Care Leave (CCL) at a time?
(a) 10 Days
(b) 20 Days
(c) 05 Days
(d) 30 Days
86. Who is responsible in case the expenditure exceeds the budget allocation?
(a) Accounts Officer-in-charge of the budget
(b) Controlling Officer / Head of Department
(c) Head of Office
(d) Assistant-in-charge of budget expenditure
87. The privilege of flying National flag on motor car is not allowed to which one of the following
(a) Foreign dignitary travelling in his car.
(b) Speaker of Lok Sabha
(c) Chief Justice of High Court
(d) Executive councilors, Delhi
88. Which of the following shall not be considered to be part of cost of production for the purpose of valuation under GST ?
(a) Interest and finance charges
(b) Prime cost
(c) Production overheads
(d) Administrative overheads
89. The Competent Authority for various purposes is :
(a) The supervisory officer of an employee
(b) The appointing Authority
(c) The Secretary of a Department
(d) The authority who has been conferred powers under FR – 6
90. Maternity leave is not admissible in case of :
- (स) 5
(द) उपरोक्त में से कोई नहीं
85. शिशु देखभाल अवकाश एक बार में न्यूनतम कितने दिनों का एक बार में दिया जा सकता है ?
(अ) 10 दिन
(ब) 20 दिन
(स) 05 दिन
(द) 30 दिन
86. बजट आवंटन से अधिक व्यय होने पर कौन जिम्मेवार है ?
(अ) बजट के प्रभारी लेखा अधिकारी।
(ब) नियंत्रण अधिकारी/ विभाग प्रमुख
(स) कार्यालय प्रमुख।
(द) बजट व्यय के सहायक प्रभारी
87. निम्नलिखित में से किसके लिये मोटर कार पर राष्ट्रीय ध्वज फहराने का विशेषाधिकार अनुमोदित नहीं है ?
(अ) अपनी कार में यात्रा कर रहे विदेशी गणमान्य व्यक्ति।
(ब) लोकसभा अध्यक्ष।
(स) उच्च न्यायालय के मुख्य न्यायाधीश।
(द) कार्यकारी परिषद, दिल्ली
88. जीएसटी के तहत मूल्यांकन के उद्देश्य से निम्नलिखित में से किसे उत्पादन लागत का हिस्सा नहीं माना जायेगा ?
(अ) ब्याज और वित्त शुल्क
(ब) प्रधान लागत
(स) उत्पादन ओवरहेड्स
(द) प्रशासनिक आवरहेड्स
89. विभिन्न प्रयोजनों के लिए सक्षम प्राधिकारी है:
(अ) एक कार्मिक के पर्यवेक्षी प्राधिकारी
(ब) नियुक्ति प्राधिकारी
(स) एक विभाग के सचिव
(द) प्राधिकरण जिसे एफआर-6 के तहत शक्तियां प्रदान की गई हैं।
90. निम्नलिखित मामलों में मातृत्व अवकाश स्वीकार्य नहीं हैं—
(अ) गर्भपात की घमकी

(a) Threatened abortion

(b) Unmarried Govt. Servant

(c) Widow Govt. Servant

(d) Induced abortion

91. A Government servant ceases to have any claim for leave to his credit, if he has:

(a) Resigned to take up another appointment in Government service

(b) Retired

(c) Been dismissed

(d) Been reinstated

92. Which leave cannot be combined with any other kind of leave

(a) Earned Leave

(b) Maternity Leave

(c) Special Casual Leave

(d) Casual Leave

93. Extra Ordinary Leave is granted to Government servants only

(a) When no other leave is admissible or on request

(b) When Government servant is on notice period of VRS

(c) Before superannuation

(d) None of the above

94. A government employee can, without the previous sanction of the government,

(a) Undertake honorary work of a social or charitable nature,

(b) Participate in sports activities as an amateur,

(c) Take part in the registration, promotion or management of a literary, scientific or Charitable society or a club

(d) All of the above

95. Maximum number of days of earned leave that can be accumulated in the entire service period by a Government Servant is

(a) 270

(b) 300

(ब) अविवाहित राजकीय सेवक

(स) विधवा सरकारी सेवक

(द) प्रेरित गर्भपात

91. किस स्थिति में सरकारी कर्मचारी अपने खाते में छुट्टी के लिये कोई दावा खो देता है।

(अ) सरकारी सेवा में एक और नियुक्ति लेने के लिये इस्तीफा दे दिया।

(ब) सेवानिवृत्त

(स) बर्खास्त कर दिया गया

(द) बहाल किया गया

92. कौन सा अवकाश अन्य अवकाश के साथ जोड़ कर नहीं लिया जा सकता है ?

(अ) अर्जित अवकाश

(ब) मातृत्व अवकाश

(स) स्पेशल आकस्मिक अवकाश

(द) आकस्मिक अवकाश

93. असाधारण अवकाश केवल सरकारी सेवकों को स्वीकृत किया जा सकता है।

(अ) जब कोई अन्य अवकाश देय नहीं है अथवा अनुरोध पर नहीं है।

(ब) जब सरकारी सेवक स्वैच्छिक सेवानिवृत्ति की नोटिस अवधि पर है।

(स) सेवानिवृत्ति से पहले।

(द) उपरोक्त में से कोई नहीं

94. सरकारी कर्मचारी, सरकार की पूर्व स्वीकृति के बिना,

(अ) एक सामाजिक या धर्मार्थ प्रकृति का मानद कार्य करना

(ब) एक शौकिया के रूप में खेल गतिविधियों में भाग ले,

(स) एक साहित्यिक, वैज्ञानिक या धर्मार्थ समाज या क्लब के पंजीकरण, प्रचार या प्रबंध में भाग ले,

(द) उपरोक्त सभी

95. एक सरकारी कर्मचारी द्वारा पूरी सेवा अवधि में अर्जित अवकाश के दिनों की अवधि संचित की जा सकती है।

(अ) 270

(ब) 300

(स) 350

(द) 360

- (c) 350
(d) 360
96. A government servant is eligible for Leave Travel Concession on completion of
- (a) 1 year service
(b) 2 years of service
(c) 3 years of service
(d) 4 years of service
97. FR in terms of service conditions governing government servants stands for
- (a) Financial Rules
(b) Fundamental Rules
(c) Fundamental Rights
(d) Foreign Rules
98. Licence Fee is related to
- (a) Education
(b) Government Accommodation
(c) Government Vehicle
(d) None of the above
99. Which of the following is not covered under term "Goods"?
- (a) Furniture
(b) Spares
(c) Books, publications periodicals etc.
(d) Patents
100. 'Classified dak' means
- (a) Dak duly sorted out for distribution
(b) Dak bearing security grading
(c) Dak meant for circulation among all the officers in ministry
(d) Dak bearing urgency grading
101. Which of the following is the apex body in the area of Teacher Education in India?
- (a) UGC
(b) MHRD
(c) NCTE
96. एक राजकीय सेवक अवकाश यात्रा भत्ता रियायत के लिये सेवा पूर्ण करने के बाद पात्र माना जायेगा ।
(अ) 1 वर्ष सेवा
(ब) 2 वर्ष सेवा
(स) 3 वर्ष सेवा
(द) 4 वर्ष सेवा
97. सरकारी सेवकों को शासित करने वाली सेवा शर्तों के संदर्भ में एफआर का अर्थ है?
(अ) वित्तीय नियम
(ब) मौलिक नियम
(स) मौलिक अधिकार
(द) विदेशी नियम
98. लाइसेंस शुल्क संबंधित है:
(अ) शिक्षा
(ब) सरकारी आवास
(स) राजकीय वाहन
(द) उपरोक्त में से कोई नहीं
99. निम्नांकित में से कौन 'सामान' शब्द के अन्तर्गत नहीं आते हैं?
(अ) फर्नीचर
(ब) पुर्जे
(स) किताबें, प्रकाशन पत्रिकाएं आदि
(द) पेटेंट
100. 'वर्गीकृत डाक' का अर्थ है ?
(अ) डाक वितरण के लिये विधिवत हल किया गया ।
(ब) डाक सुरक्षा ग्रेडिंग सहित ।
(स) डाक जो कि मंत्रालय में सभी अधिकारियों के बीच संचलन के लिए है ।
(द) डाक अत्यावश्यक ग्रेडिंग सहित
101. निम्नलिखित में से कौन भारत में शिक्षक शिक्षा के क्षेत्र में सर्वोच्च निकाय है ?
(अ) यूजीसी
(ब) एमएचआरडी
(स) एसीटीई
(द) एनसीईआरटी

(d) NCERT

102. The concept of continuous and comprehensive evaluation implies:

- (a) A learner's progress and achievement in all academic activities
- (b) Scholastic achievement of a learner
- (c) A learner's achievement in all weekly, monthly and annual tests
- (d) A learner's achievement in scholastic and literary activities

103. Ministry of Education includes:

- (a) Department of Women and Child Development
- (b) Department of Elementary Education and Literacy
- (c) Department of Secondary Education and Higher Education
- (d) All the above

104. OBC "creamy layer" ceiling is currently

- (a) ₹1 lakh per annum
- (b) ₹2.5 lakh per annum
- (c) ₹8 lakh per annum
- (d) ₹12 lakh per annum

105. Right to Information Act was promulgated in the year

- (a) 2005
- (b) 2001
- (c) 2003
- (d) 1999

106. In case where information has been denied to the applicant seeking information under RTI Act, the applicant shall be informed of

- (a) the reasons for such rejection
- (b) the period within which an appeal against such rejection may be preferred
- (c) the particulars of the appellate authority
- (d) All the three above

107. The Central Information Commission falls under which ministry?

102. सतत और व्यापक मूल्यांक की अवधारणा से तात्पर्य है ?

- (अ) सभी शैक्षणिक गतिविधियों में एक शिक्षार्थी की प्रगति और उपलब्धि
- (ब) एक शिक्षार्थी की शैक्षिक उपलब्धि
- (स) सभी साप्ताहिक, मासिक और वार्षिक परीक्षणों में एक शिक्षार्थी की उपलब्धि
- (द) शैक्षिक और साहित्यिक गतिविधियों में एक शिक्षार्थी की उपलब्धि।

103. शिक्षा मंत्रालय में शामिल हैं।

- (अ) महिला एवं बाल विकास विभाग
- (ब) प्रारंभिक शिक्षा एवं साक्षरता विभाग
- (स) माध्यमिक शिक्षा एवं उच्च शिक्षा विभाग
- (द) उपरोक्त सभी

104. अन्य पिछड़ा वर्ग किमीलेयर की वर्तमान सीमा है।

- (अ) 1 लाख रु. प्रति वर्ष
- (ब) 2.5 लाख रु. प्रति वर्ष
- (स) 8 लाख रु. प्रति वर्ष
- (द) 12 लाख रु. प्रति वर्ष

105. सूचना का अधिकार अधिनियम किस वर्ष लागू किया गया है ?

- (अ) 2005
- (ब) 2001
- (स) 2003
- (द) 1999

106. यदि सूचना का अधिकार अधिनियम के तहत सूचना मांगने वाले आवेदक को सूचना देने से मना करने के उपरांत आवेदक को सूचित किया जायेगा कि—

- (अ) सूचना नहीं प्रदान करने का कारण।
- (ब) प्रत्युत्तर से असन्तुष्ट होने की स्थिति में अपील करने की समय सीमा से अवगत कराना।
- (स) अपील अधिकारी का विवरण
- (द) उपरोक्त सभी।

107. केंद्रीय सूचना आयोग किस मंत्रालय के अन्तर्गत आता है ?

- (अ) गृह मंत्रालय

- (a) Ministry of Home Affairs
 (b) Ministry of Personnel, Public Grievances and Pensions
 (c) Ministry of Education
 (d) None of the above

108. Which of the following are the objectives of Rashtriya Uchchatar Shiksha Abhiyan (RUSA)?

- (i) To improve the overall quality of state institutions.
 (ii) To ensure adequate availability of quality faculty.
 (iii) To create new institutions through upgradation of existing autonomous colleges.
 (iv) To downgrade universities with poor infrastructure into autonomous colleges.

Select the correct answer from the codes given below:

- (a) (i), (ii), (iii) and (iv)
 (b) (i), (ii) and (iii)
 (c) (i), (iii) and (iv)
 (d) (i), (ii) and (iv)

109. National Institute of Design (Amendment) Act, 2019 came into force wef

- (a) 12th December, 2019
 (b) 22 February, 2019
 (c) 13th February, 2019
 (d) 13th January, 2020

110. Which of the following is not an authority of NID.

- (a) Governing Council
 (b) Senate
 (c) Registrar of the Institute
 (d) Such other authorities as may be declared by the Statutes to be the authorities of the Institute

111. A Lien of a Government servant to a post shall not be retained when

- (a) He proceeds on immediate absorption outside his cadre
 (b) on deputation beyond the maximum period

- (ब) कार्मिक, लोक शिकायत एवं पेंशन मंत्रालय
 (स) शिक्षा मंत्रालय
 (द) उपरोक्त में से कोई नहीं

108. निम्न में से कौन सा राष्ट्रीय उच्चतर शिक्षा अभियान (आरयूएसए) का उद्देश्य है ?

- (i) राज्य संस्थानों की समग्र गुणवत्ता में सुधार करना।
 (ii) गुणवत्तापूर्ण संकाय की पर्याप्तता सुनिश्चित करना।
 (iii) मौजूदा स्वायत्त महाविद्यालयों के उन्नयन के माध्यम से नए संस्थान बनाना।
 (iv) खराब बुनियादी ढांचे वाले विश्वविद्यालयों को स्वायत्त कॉलेजों में डाउनग्रेड करना।

निचे दिए गये कूटों में से सही का चयन कीजिए।

- (अ) (i), (ii), (iii) and (iv)
 (ब) (i), (ii) and (iii)
 (स) (i), (iii) and (iv)
 (द) (i), (ii) and (iv)

109. राष्ट्रीय डिजाइन संस्थान संशोधन, अधिनियम, 2019से लागू है।

- (अ) 12 दिसंबर 2019
 (ब) 22 फरवरी 2019
 (स) 13 फरवरी 2019
 (द) 13 जनवरी 2020

110. निम्नांकित में से कौन राष्ट्रीय डिजाइन संस्थान का प्राधिकरण नहीं है ?

- (अ) शासी परिषद
 (ब) सीनेट
 (स) संस्थान के कुलसचिव
 (द) ऐसे अन्य प्राधिकरण जिन्हें विधियों के द्वारा संस्थान के प्राधिकरण घोषित किया जा सकता है।

111. किसी सरकारी कर्मचारी का किसी पद पर ग्रहणाधिकार तब नहीं रखा जायेगा जब—

- (अ) वह अपने संवर्ग के बाहर तत्काल समावेशन पर आगे बढ़ता है
 (ब) अधिकतम अवधि से अधिक प्रतिनियुक्ति पर

(c) Both (a) and (b)

(d) Neither (a) nor (b)

112. According to the National Education Policy 2020 by how much percent the Gross Enrolment Ratio in higher education to be raised?

(a) 25%

(b) 30%

(c) 40%

(d) 50%

113. In NEP 2020, the current 10+2 system to be replaced by a new curricular structure. What is the new curricular structure?

(a) 3+4+4+5

(b) 5+3+3+4

(c) 4+3+3+5

(d) 5+4+3+3

114. The reservation benefits to economically weaker sections has been made applicable for the vacancies notified on or after :

(a) February 1, 2019

(b) April 1, 2019

(c) March 1, 2019

(d) January 1, 2019

115. In order to be eligible to avail the benefit of reservation under EWS category, the ceiling of gross annual income of the family is

(a) 6 Lakh

(b) 8 Lakh

(c) 5 Lakh

(d) 9 Lakh

116. As per extant provisions, upto a maximum _____ of direct recruitment vacancies arising in a year in Group 'C' posts can be filled up by compassionate appointment.

(a) 10 %

(b) 3 %

(c) 5%

(स) (अ) और (ब) दोनों

(द) न तो (अ) और न ही (ब)

112. राष्ट्रीय शिक्षा नीति 2020 के अनुसार उच्च शिक्षा में सकल नामांकन अनुपात को कितने प्रतिशत तक बढ़ाया जाना है ?

(अ) 25 %

(ब) 30 %

(स) 40%

(द) 50%

113. एनईपी 2020 में, वर्तमान 10+2 प्रणाली को एक नई पाठ्यचर्या संरचना द्वारा प्रतिस्थापित किया जाना है। नई पाठ्यचर्या संरचना क्या है ?

(अ) 3+4+4+5

(ब) 5+3+3+3+4

(स) 4+3+3+5

(द) 5+4+3+3

114. आर्थिक रूप से कमजोर वर्गों के लिये आरक्षण लाभ को के बाद अधिसूचित रिक्तियों के लिए लागू किया गया है।

(अ) 1 फरवरी 2019

(ब) 1 अप्रैल 2019

(स) 1 मार्च 2019

(द) 1 जनवरी 2019

115. ईडब्ल्यूएस श्रेणी के तहत आरक्षण का लाभ उठाने के लिये पात्र होने के लिये परिवार की सकल वार्षिक आय की सीमा..... है।

(अ) 6 लाख

(ब) 8 लाख

(स) 5 लाख

(द) 9 लाख

116. मौजूदा प्रावधानों के अनुसार समूह ग पदों में एक वर्ष में होने वाली सीधी भर्ती रिक्तियों की अधिकतम अनुकंपा नियुक्ति द्वारा भरी जा सकती है।

(अ) 10 %

(ब) 3 %

(स) 5 %

(द) 15 %

(d) 15 %

117. Which Article of Indian constitution contains the provision for Reservation for the scheduled castes and scheduled tribes in the government services

(a) Article 315

(b) Article 335

(c) Article 365

(d) Article 375

118. The maximum age relaxation for Ex-Servicemen for vacancies in Group A and B posts under Govt services/posts to be filled by direct recruitment otherwise than on the basis of the result of an open All India competition shall be :

(a) Upper age limit relaxed by the Length of Military service plus three years

(b) Relaxation of Five years in upper age limit

(c) Relaxation of three years in the upper age limit

(d) Relaxation of ten years in the upper age limit

119. Which of the following action is 'Deemed Refusal' under the RTI Act ?

(a) A failure to provide information by PIO within stipulated time

(b) An FAA's refusal to hear a first appeal within 30 days

(c) An Applicant's refusal to pay fees

(d) An APIO's refusal to provide information on request by an Applicant

120. MACPS stands for:

(a) Multiple Assured Career Progression Scheme

(b) Modified Assured Career Profession Scheme

(c) Modified Assured Career Progression Scheme

(d) None of the above

117. भारतीय संविधान के किस अनुच्छेद में सरकारी सेवाओं में अनुसूचित जातियों और अनुसूचित जनजातियों के लिये आरक्षण का प्रावधान है ?

(अ) अनुच्छेद 315

(ब) अनुच्छेद 335

(स) अनुच्छेद 365

(द) अनुच्छेद 375

118. खुली अखिल भारतीय प्रतियोगिता के परिणाम के आधार पर सीधी भर्ती द्वारा भरी जाने वाली सरकारी सेवाओं, पदों के अंतर्गत समूह क और ख पदों में रिक्तियों के लिये भूतपूर्व सैनिकों के लिये अधिकतम आयु छूट होगी ।

(अ) सैन्य सेवा की लंबाई प्लस तीन वर्ष की ऊपरी आयु सीमा में छूट ।

(ब) ऊपरी आयु सीमा में पांच वर्ष की छूट ।

(स) ऊपरी आयु सीमा में तीन वर्ष की छूट ।

(द) ऊपरी आयु सीमा में दस वर्ष की छूट ।

119. निम्नलिखित में से कौन सी कार्यवाही आरटीआई अधिनियम के तहत 'डीम्ड इनकार' मानी जाती है ?

(अ) लो.सू.अ. के द्वारा निर्धारित समय सीमा सूचना मुहैया करवाने में असफल ।

(ब) प्रथम अपील अधिकारी के 30 दिनों के भीतर सुनवाई से इन्कार

(स) आवेदनकर्ता के द्वारा शुल्क भुगतान करने से इन्कार

(द) स.लो.सू.अ. के द्वारा आवेदन कर्ता को सूचना मुहैया करने से इन्कार

120. MACPS का पूर्ण रूप है ।

(अ) एकाधिक सुनिश्चित कैरियर प्रगति योजना ।

(ब) संशोधित सुनिश्चित कैरियर पेशा योजना ।

(स) संशोधित सुनिश्चित कैरियर प्रगति योजना ।

(द) उपरोक्त में से कोई नहीं ।

Final Answer Key for the Post of Superintendent Exam Paper on 07.07.2021

) Paper Set code A

Q No.	Answer	Remarks
1	C	
2	D	
3	C	
4	C	
5	A	
6	B	
7	C	
8	C	
9	B	
10	C	
11	B	
12	A	
13	C	
14	A	
15	C	
16	D	
17	A	
18	C	
19	B	
20	D	
21	D	
22	D	
23	A	
24	C	
25	D	
26	C	
27	A	
28	C	
29	B	
30	A	
31	B	
32	C	
33	A	
34	C	
35	C	
36	A	
37	B	
38	B	
39	C	

40		D	
41		D	
42		A	
43		C	
44		D	
45		C	
46		A	
47		A	
48		B	
49		Deleted	Marks given all candidates
50		A	
51		B	
52		C	
53		B	
54		B	
55		A	
56		C	
57		C	
58		C	
59		D	
60		Deleted	Marks given all candidates
61		C	
62		B	
63		C	
64		D	
65		B	
66		D	
67		B	
68		D	
69		B	
70		D	
71		D	
72		B	
73		D	
74		C	
75		D	
76		C	
77		A	
78		D	
79		C	
80		C	
81		D	
82		A	

83		C	
84		D	
85		C	
86		B	
87		D	
88		A	
89		D	
90		A	
91		C	
92		C	
93		A	
94		D	
95		B	
96		A	
97		B	
98		B	
99		C	
100		B	
101		C	
102		A	
103		D	
104		C	
105		A	
106		D	
107		B	
108		B	
109		D	
110		C	
111		C	
112		D	
113		B	
114		A	
115		B	
116		C	
117		B	
118		A	
119		A	
120		C	

राष्ट्रीय डिजाइन संस्थान, मध्य प्रदेश National Institute of Design, Madhya Pradesh

अधीक्षक के पद के लिए कौशल परीक्षा Skill test for the position of Superintendent

समय: 45 मिनट, Time: 45 minutes अधिकतम अंक: 50, Max. Marks: 50

उम्मीदवारों को निर्देश Instructions to candidates

1. कौशल परीक्षा को पास करने के लिए न्यूनतम योग्यता अंक 45% हैं।
1. Minimum qualifying marks to clear the skill test are 45%.
2. प्रश्न संख्या 1 का उत्तर 18 मिनट के भीतर देना होगा। आपको इस अवधि के अंत में टाइप किए गए पाठ को सहेजना होगा।
2. Question number 1 shall be answered within 18 minutes. You are required to save the typed text at the end of this period.
3. एमएस पावरपॉइंट स्लाइड का मूल्यांकन उम्मीदवार के कौशल और अवधारणा के आधार पर किया जाएगा।
3. MS PowerPoint slide shall be evaluated on the basis of candidate's skills and conceptualization.
4. एमएस एक्सेल/ बार चार्ट का मूल्यांकन मापदंडों की शुद्धता, सूत्रों के उपयोग से डेटा की शुद्धता और चार्ट में डेटा के आधार पर किया जाएगा।
4. MS Excel/ bar chart shall be evaluated on the basis of correctness of data arrived at by use of formulae and parameters in the chart.

कौशल परीक्षा Skill Test

प्रश्न संख्या 1. मुख्य प्रशासनिक अधिकारी, XYZ संस्थान, जो भारत सरकार के तहत एक नया स्थापित संगठन है, को माल की खरीद के लिए एक पारदर्शी और कुशल निविदा प्रक्रिया सुनिश्चित करने के लिए सुझाव देते हुए एक नोट लिखें। (20)

Q. No. 1. Write a note to the Chief Administrative Officer, XYZ Institute under the Govt of India, which is a newly established organization, giving suggestions for ensuring a transparent and efficient tendering process for procurement of goods. (20)

प्रश्न संख्या 2. XYZ प्रौद्योगिकी संस्थान छात्रों के लिए नियम तैयार कर रहा है। एमएस पावरपॉइंट स्लाइड्स पर पॉइंट फॉर्म में चोरी के मामलों के लिए जांच प्रक्रिया का प्रस्ताव करें। आप क्लिप आर्ट / एनीमेशन का उपयोग कर सकते हैं। (10)

Q. No. 2. XYZ Institute of Technology is framing Rules and Regulations for Students. Propose an inquiry procedure for theft cases in point form on MS PowerPoint slides. You can use clip art/ animation. (10)

प्रश्न संख्या 3. भोपाल शहर में दीपू टायर स्टोर को विभिन्न बिक्री प्रतिनिधियों से प्राप्त आदेश नीचे दिए गए हैं:

Q. No. 3. The orders received by Deepu Tyre Store from various sales representatives in the city of Bhopal are given below:

Order Date	Representative	Item	Units	Unit Cost	Total
1/6/2019	Shyam	Motor cycle tube	95	299.99	
1/23/2019	Joginder	Car tube	50	599.99	
2/9/2019	Tony	Motor cycle tube	36	299.99	
2/26/2019	Mustafa	Car tube	27	599.99	
3/15/2019	Tony	Motor cycle tube	56	299.99	
4/1/2019	Mustafa	Car tube	60	599.99	
4/18/2019	Joginder	Motor cycle tube	75	299.99	
5/5/2019	Mustafa	Motor cycle tube	90	299.99	
5/22/2019	Shyam	Motor cycle tube	32	299.99	
6/8/2019	Joginder	Car tube	60	599.99	
Grand Total					

क) MS एक्सेल का उपयोग करके गणना करें (i) प्रत्येक आदेश का कुल मूल्य (ii) सभी आदेशों का संपूर्ण मूल्य। (10+5)

a) Calculate (i) total value of each order (ii) grand total of all orders; using MS Excel. (10+5)

ख) एक बारचार्ट में जोगिंदर से प्राप्त कुल आदेशों की मुस्तफा के आदेशों के साथ तुलना करें। (5)

b) Compare total orders received from Joginder with that of Mustafa in a bar chart. (5)



राष्ट्रीय डिजाइन संस्थान, मध्यप्रदेश
National Institute of Design, Madhya Pradesh

सहायक प्रशासनिक अधिकारी के लिए भर्ती परीक्षा प्रश्न पत्र
Question Paper for Recruitment test for the position of Assistant Administrative Officer

अधिकतम अंक : 120 Max Marks: 120 समय: 2 घंटे, Time: 2 hours पेपर कोड ब PAPER CODE - B

रोल न. Roll No.

परीक्षार्थी के हस्ताक्षर Candidate's signature

Invigilator's Signature

परीक्षार्थी को निर्देश:

- प्रवेश पत्र में दिये गये सभी कोविड-19 संबंधित दिशानिर्देश का पालन करें।
- अभ्यार्थी ओएमआर शीट में दिए गये स्थान पर अपना आवेदन संख्या, नाम और अन्य विवरण भरें।
- आवेदन संख्या के लिए दिये गये सर्कल को भरें।
- कृपया अपने पेपर कोड सर्कल को भरें, जो कि आपको दिये गये प्रश्न पत्र के उपर लिखा है।
- ओएमआर शीट पर सभी प्रासंगिक सर्कल/बॉक्स को सावधानीपूर्वक भरने के लिए बॉल प्वाइंट पेन (ब्लू या ब्लैक) का उपयोग करें, अन्यथा आपकी उत्तर पुस्तिका को अमान्य कर दिया जायेगा।
- कृपया प्रश्न संख्या के लिए संबंधित सर्कल में आपके द्वारा चुने गये सबसे उपयुक्त उत्तर / प्रतिक्रिया को भरें।
- यदि आप किसी प्रश्न के लिए एक से अधिक सर्कल भरते हैं, तो उस प्रश्न को अमान्य कर दिया जायेगा और उस प्रश्न के लिए कोई नंबर नहीं दिया जायेगा तथा 0.25 नंबर काट लिया जायेगा।
- कृपया उत्तर पत्रक पर कोई अन्य चिन्ह न करें अन्यथा उत्तर पत्रक को अमान्य कर दिया जायेगा।
- किसी भी प्रकार के अनुचित साधनों या माध्यमों का उपयोग करने के दोषी पाए गए उम्मीदवारों को अनुशासनात्मक कार्रवाई के लिये उत्तरदायी माना जायेगा और उनकी उत्तर पुस्तिका को अमान्य कर दिया जायेगा।
- कृपया प्रश्न पत्र के शीर्ष पर दिये गए बॉक्स में अपना रोल न. लिखें और अपना हस्ताक्षर करें।
- सभी प्रश्न अनिवार्य हैं। प्रत्येक सही उत्तर पर एक अंक दिया जायेगा। प्रत्येक गलत उत्तर के लिए 0.25 अंक काटे जाएंगे।
- केवल प्रश्न पत्र पर ही रफ कार्य किया जायेगा और इस उद्देश्य के लिये कोई अलग शीट प्रदान नहीं की जायेगी।
- यदि प्रश्न पत्र के हिन्दी व अंग्रेजी रूपान्तरण में किसी प्रकार की मुद्रण या तथ्यात्मक अस्पष्टता / गलती है, तो प्रश्न पत्र का अंग्रेजी संस्करण को मानक माना जाएगा।

Instructions to Candidate:

- Please follow all COVID 19 related guidelines given in the admit card.
- Candidate should fill their Roll No., name and other details in the space provided in the OMR Sheet. Darken the circle under the Roll No./ Application No.
- Please darken paper code circle in OMR sheet, based on the set of paper provided to you.
- Use ball point pen (Blue or Black) to fill up or darken all the relevant circles/boxes on the OMR Sheet carefully, otherwise your answer Sheet will be invalidated.
- Please darken the most appropriate answer/response chosen by you in the corresponding circle against the question no.

- If you darken more than one circle against a question, the answer/ response to that question will be invalidated, no mark will be assigned to you for that question and 0.25 mark shall be deducted.
- Please do not make any other marks ELSEWHERE on the answer sheet or else the answer sheet will be invalidated.
- Candidates found guilty of using unfair means of any nature shall be liable for disciplinary action and their answer sheets shall be rejected.
- Please also write your Roll No. and put your signatures in the boxes given at the top of question paper.
- All questions are mandatory. Each correct answer shall be awarded one mark. 0.25 mark shall be deducted for each wrong answer.
- Rough work is required to be done on the question paper only and no separate sheet will be provided for this purpose.
- If there is any sort of ambiguity / mistake either of printing or factual nature in Hindi and English version of the question paper, the English version will be treated as Standard.

Q. No.	Questions	Q. No.	Questions
1.	The equator passes through which of the following continents? (a) Africa (b) Australia (c) Europe (d) North America	1.	भूमध्य रेखा निम्नलिखित में से किस महाद्वीप से होकर गुजरती है? (अ) अफ्रीका (ब) ऑस्ट्रेलिया (स) यूरोप (द) उत्तरी अमेरिका
2.	Census in India is being held regularly after every (a) 6 years (b) 8 years (c) 10 years (d) 12 years	2.	भारत में जनगणना प्रत्येक ___ के बाद नियमित रूप से आयोजित की जा रही है (अ) 6 साल (ब) 8 साल (स) 10 साल (द) 12 साल
3.	The terms TRIPS and TRIMS are related to (a) NAFTA (b) SAPTA (c) EFTA (d) World Trade Organization (WTO)	3.	TRIPS और TRIMS शब्द निम्न में से किससे संबंधित हैं। (अ) नाफ्टा (ब) सापटा (स) ईएफटीए (द) विश्व व्यापार संगठन (डब्ल्यूटीओ)
4.	Writs can be issued for the enforcement of Fundamental Rights by	4.	मौलिक अधिकारों के प्रवर्तन के लिए निम्न में से किसके द्वारा रिट जारी की जा सकती हैं। (अ) जिला न्यायालय

- (a) District Court
 (b) High Court only
 (c) Supreme Court only
 (d) Both Supreme Court as well as the High Court
5. Joe Biden won elected as the 46th president in the recent US presidential elections. He belongs to which of the following parties?
 (a) Green Party
 (b) Liberal Party
 (c) Conservative Party
 (d) Democratic Party
6. 'MIDHANI' is for -
 (a) Mishra Dhatu Nigam Ltd
 (b) Mishra Dhatu Nipping Ltd
 (c) Mishra Dock Nigam Ltd
 (d) None of the above
7. 'Bharat AIR Fiber' is a project of BSNL to provide internet access to -
 (a) Indian Air force
 (b) Indian Navy
 (c) Villages
 (d) Metro cities
8. Lala Lajpat Rai began his legal practice in -
 (a) Kurukshetra
 (b) Panipat
 (c) Hissar
 (d) Sonipat
9. Which bank has decided to completely digitize its lending operations?
 (a) Bank of Baroda
 (b) State Bank of India
 (c) Reserve Bank of India
- (द) केवल उच्च न्यायालय
 (स) केवल सुप्रीम कोर्ट
 (द) सुप्रीम कोर्ट और साथ ही उच्च न्यायालय दोनों के द्वारा
5. जो-बाइडेन हाल के अमेरिकी राष्ट्रपति चुनावों में 46वें राष्ट्रपति के रूप में निर्वाचित हुए। वह निम्नलिखित में से किस पार्टी से संबंधित है?
 (अ) ग्रीन पार्टी
 (ब) लिबरल पार्टी
 (स) कंजर्वेटिव पार्टी
 (द) डेमोक्रेटिक पार्टी
6. "MIDHANI" शब्द किसका संक्षिप्त नाम है।
 (अ). मिश्र धातु निगम लिमिटेड
 (ब). मिश्र धातु निपिंग लिमिटेड
 (स). मिश्र डॉक निगम लिमिटेड
 (द). उपरोक्त में से कोई नहीं
7. 'भारत एयर फाइबर' बीएसएनएल की एक परियोजना है जिसके तहत निम्न में से किसे इंटरनेट की सुविधा प्रदान की जाती है।
 (अ) भारतीय वायु सेना
 (ब) भारतीय नौसेना
 (स) गांव
 (द) मेट्रो शहर
8. लाला लाजपत राय ने अपना कानूनी अभ्यास निम्न में से किस शहर में शुरू किया।
 (अ) कुरुक्षेत्र
 (ब) पानीपत
 (स) हिसार
 (द) सोनीपत
9. निम्न में से किस बैंक ने अपने ऋण संचालन को पूरी तरह से डिजिटल करने का निर्णय लिया है?
 (अ) बैंक ऑफ बड़ौदा
 (ब) भारतीय स्टेट बैंक
 (स) भारतीय रिजर्व बैंक



- (d) ICICI
10. Which one of the following is not an epidemic disease?
 (a) Cholera
 (b) Smallpox
 (c) Covid-19
 (d) Elephantiasis
11. The origin place of EB River is -
 (a) Khurha Hill
 (b) Maikal Hill
 (c) Camoor Hill
 (d) Ludeg Hill
12. In which state of India is the largest river island Majuli located?
 (a) Assam
 (b) West Bengal
 (c) Odhisa
 (d) Karnataka
13. Which among the following is not included in the Fundamental Rights embodied in the Constitution of India?
 (a) Right of equality
 (b) Right to freedom
 (c) Right against expression
 (d) Right to Information
14. GARC is the acronym for
 (a) Global Automotive Research Consortium
 (b) Global Atomic Research Consortium
 (c) Global Automotive Research Centre
 (d) Global Advancement Research Centre
- (e) आईसीआईसीआई
10. निम्नलिखित में से कौन-सा एक महामारी रोग नहीं है?
 (अ) हैजा
 (ब) चेचक
 (स) कोविड -19
 (द) एलीफैंटियासिस
11. ईबी नदी का उद्गम स्थल है -
 (अ) खुर्हा हिल
 (ब) मैकल हिल
 (स) कैमूर हिल
 (द) लुडेग हिल
12. भारत के किस राज्य में सबसे बड़ा नदी द्वीप माजुली स्थित है?
 (ए) असम
 (बी) पश्चिम बंगाल
 (सी) ओडिशा
 (डी) कर्नाटक
13. निम्नलिखित में से कौन भारत के संविधान में निहित मौलिक अधिकारों में शामिल नहीं है?
 (ए) समानता का अधिकार
 (बी) स्वतंत्रता का अधिकार
 (सी) अभिव्यक्ति के खिलाफ अधिकार
 (डी) सूचना का अधिकार
14. जीएआरसी निम्न में से किसका परिवर्णी/ सूक्ष्म शब्द है-
 (ए) ग्लोबल ऑटोमोटिव रिसर्च कंसोर्टियम
 (बी) वैश्विक परमाणु अनुसंधान संघ
 (सी) ग्लोबल ऑटोमोटिव रिसर्च सेंटर
 (डी) ग्लोबल एडवांसमेंट रिसर्च सेंटर

15. You can keep your personal files/folders in the PC
 (a) My folder
 (b) My documents
 (c) My files
 (d) My text
16. A man covers a certain distance at 36 km/ph. How many meters does he cover in 2 minutes?
 (a) 1000 mt
 (b) 120 mt
 (c) 1200 mt
 (d) 600 mt
17. What percentage is 2% of 5%?
 (a) 60%
 (b) 40%
 (c) 20%
 (d) 10%
18. In what time will a train 100 metres long cross an electric pole, if its speed be 60 km/hr?
 (a) 6 second
 (b) 4 second
 (c) 3 second
 (d) 12 second
19. The product of two number is 192 and the sum of these two numbers is 28. What is the smaller of these two numbers?
 (a) 12
 (b) 15
 (c) 18
 (d) 20
15. आप अपनी व्यक्तिगत फाइलों/फोल्डरों को PC में यहाँ रख सकते हैं
 (ए) मेरा फोल्डर
 (बी) मेरे दस्तावेज़
 (सी) मेरी फाइलें
 (डी) मेरा पाठ
16. एक आदमी 36 किमी/घंटा की गति से एक निश्चित दूरी तय करता है। वह 2 मिनट में कितने मीटर की दूरी तय करता है?
 (ए) 1000 मीटर
 (बी) 120 मीटर
 (सी) 1200 मीटर
 (डी) 600 मीटर
17. 5% का 2% कितना प्रतिशत है?
 (ए) 60%
 (बी) 40%
 (सी) 20%
 (डी) 10%
18. 100 मीटर लंबी ट्रेन कितने समय में बिजली के खंभे को पार करेगी, यदि उसकी गति 60 किमी/घंटा है?
 (ए) 6 सेकंड
 (बी) 4 सेकंड
 (सी) 3 सेकंड
 (डी) 12 सेकंड
19. दो संख्याओं का गुणनफल 192 है और इन दो संख्याओं का योग 28 है। इन दो संख्याओं में से छोटी संख्या क्या है?
 (ए) 12
 (बी) 15
 (सी) 18
 (डी) 20

20. A sum of money invested at compound interest amounts to Rs. 800 in 3 years and to Rs. 840 in 4 years. The rate of interest per annum is:
- (a) 2%
(b) 4%
(c) 5%
(d) 6%
21. If 1st January 1910 is considered as Friday. Then find out the day on 1st January 1901?
- (a) Sunday
(b) Monday
(c) Tuesday
(d) Wednesday
22. Which of the two signs in the equation $(51+3+17 \times 2-12=10)$ given can be interchanged to make a balanced equation?
- (a) + and \times
(b) + and \div
(c) - and \times
(d) \div and \times
23. A box contains two white balls, 03 black balls and 04 red balls. In how many ways can 03 balls be drawn from the box, if at least one black ball is to be included in the draw?
- (a) 32
(b) 48
(c) 64
(d) 96
24. If $A:B = 2:3$, $B:C = 4:5$ and $C:D = 6:7$ then $A:B:C:D$ is —
- (a) 16:22:30:35
(b) 16:22:24:35
20. चक्रवृद्धि ब्याज पर निवेश की गई राशि 3 साल में रु 800 और 4 साल में रु 840 रुपये हो जाती है। प्रति वर्ष ब्याज की दर क्या है:
- (ए) 2%
(बी) 4%
(सी) 5%
(डी) 6%
21. यदि 1 जनवरी 1910 को शुक्रवार माना जाए। तो 1 जनवरी 1901 का दिन ज्ञात कीजिये?
- (ए) रविवार
(बी) सोमवार
(सी) मंगलवार
(डी) बुधवार
22. दिए गए समीकरण $(51+3+17 \times 2-12=10)$ में संतुलित समीकरण बनाने के लिए किन दो चिन्हों में अदला-बदली की जानी आवश्यक है ?
- (ए) + and \times
(बी) + and \div
(सी) - and \times
(डी) \div and \times
23. एक डिब्बे में 2 सफेद गेंदें, 03 काली गेंदें और 04 लाल गेंदें हैं। कितने प्रकार से बॉक्स से 03 गेंदें निकाली जा सकती हैं, यदि ड्रॉ में कम से कम एक काली गेंद को शामिल करना हो?
- (ए) 32
(बी) 48
(सी) 64
(डी) 96
24. यदि $A:B = 2:3$, $B:C = 4:5$ और $C:D = 6:7$ तो $A:B:C:D$ है-
- (ए) 16:22:30:35

- (c) 16:24:30:35
(d) 16:24:35:22
25. Raj's age after 15 years will be 5 times his age 5 years back. What is the present age of Raj?
(a) 7 yrs
(b) 8 yrs
(c) 10 yrs
(d) 12 yrs
26. $(\sqrt{7+\sqrt{5}})/(\sqrt{7-\sqrt{5}})$ is equal to -
(a) 1
(b) 2
(c) $6-\sqrt{35}$
(d) $6+\sqrt{35}$
27. Find a positive number which when increased by 17 is equal to 60 times the reciprocal of the number?
(a) 3
(b) 10
(c) 17
(d) 20
28. A General wishing to draw up his 16160 soldiers in the form of a solid square, found that he had 31 soldiers over. Find the number of men in the front line.
(a) 127
(b) 133
(c) 160
(d) 172
29. 12 Men or 15 women can do a piece of work in 21 days. Find the number of days required to complete the same work by 6 men and 10 women.
- (बी) १६:२२:२४:३५
(सी) १६:२४:३०:३५
(डी) १६:२४:३५:२२
25. 15 वर्ष बाद राज की आयु 5 वर्ष पूर्व उसकी आयु की 5 गुना होगी। राज की वर्तमान आयु क्या है?
(ए) 7 साल
(बी) 8 साल
(सी) 10 साल
(डी) 12 साल
26. $(\sqrt{7+\sqrt{5}})/(\sqrt{7-\sqrt{5}})$ --- के बराबर है
(ए) 1
(बी) 2
(सी) $6-\sqrt{35}$
(डी) $6+\sqrt{35}$
27. एक धनात्मक संख्या ज्ञात कीजिए जिसमें 17 की वृद्धि करने पर संख्या के व्युत्क्रम के 60 गुना के बराबर है?
(ए) 3
(बी) 10
(सी) 17
(डी) 20
28. एक सेनापति ने अपने 16160 सैनिकों को एक ठोस वर्ग के रूप में तैयार करने की इच्छा रखते हुए पाया कि उसके पास 31 सैनिक थे। अग्रिम पंक्ति में पुरुषों की संख्या ज्ञात कीजिए।
(ए) 127
(बी) 133
(सी) 160
(डी) 172
29. 12 पुरुष या 15 महिलाएं किसी काम को 21 दिनों में कर सकते हैं। 6 पुरुषों और 10 महिलाओं द्वारा समान कार्य को पूरा करने के लिए आवश्यक दिनों की संख्या ज्ञात कीजिए।

- (a) 15
(b) 18
(c) 21
(d) 24
30. If a man after spending 85% of the income he saves Rs. 4560 per month, his monthly income is:
(a) Rs.32800
(b) Rs.31600
(c) Rs.30400
(d) None of these
31. The normal size of zone of consideration and extended zone of consideration for post carrying 07 number of vacancies would be:
(a) 18 and 35
(b) 16 and 35
(c) 14 and 28
(d) 13 and 35
32. If a government servant opts to pay by himself the leave salary contribution alone for the period of his foreign service, then it would be:
(The symbol "L", "F", "P", and "r" have their usual meaning as per government rules on foreign service).
(a) 11 % of Basic Pay in Pay Level
(b) $L = (F-P) \times r/100$
(c) $L = F \times (r/100+r)$
(d) $L = (F-P) \times (r/100+r)$
33. During continuation of Subsistence Allowance, the
- (ए) 15
(बी) 18
(सी) 21
(डी) 24
30. यदि कोई व्यक्ति अपनी आय का 85% खर्च करने के बाद रु. 4560 प्रति माह, उसकी मासिक आय है:
(ए) रुपये 32800
(बी) रुपये 31600
(सी) रुपये 30400
(डी) इनमें से कोई नहीं
31. 07 रिक्तियों वाले पद के लिए विचार क्षेत्र (Zone of Consideration) और विस्तारित विचार क्षेत्र (Extended Zone of Consideration) का सामान्य आकार होगा:
(ए) 18 और 35
(बी) 16 और 35
(सी) 14 और 28
(डी) 13 और 35
32. यदि कोई सरकारी कर्मचारी अपनी विदेश/बाह्य सेवा की अवधि के लिए अकेले अवकाश वेतन अंशदान का भुगतान स्वयं करने का विकल्प चुनता है, तो यह होगा:
(प्रतीक "एल", "एफ", "पी", और "आर" का विदेश सेवा पर सरकारी नियमों के अनुसार उनका सामान्य अर्थ है)
(ए) वेतन स्तर में मूल वेतन का 11%
(बी) एल = (एफ-पी) एक्स आर/100
(सी) एल = एफ एक्स (आर/100+आर)
(डी) एल = (एफ-पी) एक्स (आर/100+आर)
33. निर्वाह भत्ता के भुगतान की निरंतरता के दौरान, निम्नलिखित कटौती नहीं की जा सकती:

- following deduction cannot be made:
- (a) Income Tax
(b) Repayment of loans and advances
(c) NPS contribution
(d) House Rent (License fee, etc)
34. Which of the following cannot be altered in the service book after 05 years of service:
- (a) Change in Name
(b) Change in Date of birth
(c) Change in Hometown
(d) Change of spouse name
35. The lumpsum incentive for acquiring a degree of PhD in a field that is directly relevant to the employee job would be:
- (a) Rs. 20,000/-
(b) Rs. 25,000/-
(c) Rs. 30,000/-
(d) Rs. 35,000/-
36. What is the full form of CPPP:
- (a) Centralized Purchase & Payment Portal
(b) Central Public Procurement Portal
(c) Centralized Public Procurement Portal
(d) Common Purchase & Payment Portal
37. The provision of recovery of liquidated damage applies when:
- (a) Items / service is less than supply/ work order
(b) Description of items are different than what required in supply order
- (ए) आयकर
(बी) ऋण और अग्रिम की चुकौती
(सी) एनपीएस योगदान
(डी) मकान किराया (लाइसेंस शुल्क, आदि)
34. 05 वर्ष की सेवा के बाद निम्नलिखित में से किसे सेवा पुस्तिका में परिवर्तन नहीं किया जा सकता है:
- (ए) नाम में परिवर्तन
(बी) जन्म तिथि में परिवर्तन
(सी) गृहनगर में परिवर्तन
(डी) पति या पत्नी का नाम बदलना
35. कर्मचारी की नौकरी के लिए सीधे प्रासंगिक क्षेत्र में पीएचडी की डिग्री प्राप्त करने के लिए एकमुश्त प्रोत्साहन राशि प्रदान की जा सकती है:
- (ए) रुपये 20,000/-
(बी) रुपये 25,000/-
(सी) रुपये 30,000/-
(डी) रुपये 35,000/-
36. CPPP का पूर्ण नाम क्या है:
- (ए) केंद्रीकृत खरीद और भुगतान पोर्टल
(बी) केंद्रीय सार्वजनिक खरीद पोर्टल
(सी) केंद्रीकृत सार्वजनिक खरीद पोर्टल
(डी) सामान्य खरीद और भुगतान पोर्टल
37. परिसमाप्त क्षति (Liquidated Damage) की वसूली का प्रावधान तब लागू होता है जब:
- (ए) आइटम / सेवा आपूर्ति / कार्य आदेश से कम है
(बी) वस्तुओं का विवरण आपूर्ति आदेश में दिये गये विवरण से अलग है

- (c) Items / services delivered beyond schedule delivery date
- (d) In all above conditions, liquidated damage is applied
38. As per, GFR, the rate contract of following items is not permitted:
- (a) Computers
- (b) Sanitary consumables
- (c) Stationery
- (d) Chemicals & Gases
39. Purchase of goods without quotation as per _____ under certificate to be recorded by competent authority as per Rule:
- (a) GFR 147
- (b) GFR 154
- (c) GFR 145
- (d) None of these
40. How many years of age relaxation may be allowed to a SC/ST candidate with physical disabilities for recruitment to a post to be filled by direct recruitment?
- (a) 15
- (b) 13
- (c) 8
- (d) 6
41. "CGHS" Stands for:-
- (a) Central Govt. Honorarium Scheme
- (b) Central Govt. Home Scheme
- (c) Central Govt. Health Scheme
- (d) Central Govt. Human Scheme
42. The monthly amount of Children Education Allowance
- (सी) आइटम/सेवाएं निर्धारित डिलीवरी तिथि के बाद वितरित की गईं
- (डी) उपरोक्त सभी स्थितियों में, परिसमाप्त क्षति लागू होती है
38. जीएफआर के अनुसार, निम्नलिखित मदों के दर अनुबंध (Rate Contract) की अनुमति नहीं है:
- (ए) कंप्यूटर
- (बी) स्वच्छता उपभोग्य वस्तुएं
- (सी) स्टेशनरी
- (डी) रसायन और गैसें
39. सक्षम प्राधिकारी द्वारा नियमानुसार दर्ज किए जाने वाले प्रमाण पत्र के तहत निम्न में से किस नियम के अनुसार बिना कोटेशन के सामान की खरीद की जा सकती है:
- (ए) जीएफआर 147
- (बी) जीएफआर 154
- (सी) जीएफआर 145
- (डी) इनमें से कोई नहीं
40. शारीरिक रूप से अक्षम अनुसूचित जाति/अनुसूचित जनजाति के उम्मीदवार को सीधी भर्ती द्वारा भरे जाने वाले पद पर भर्ती के लिए आयु में कितने वर्ष की छूट दी जा सकती है?
- (ए) 15
- (बी) 13
- (सी) 8
- (डी) 6
41. "सीजीएचएस" का अर्थ है: -
- (ए) केंद्र सरकार मानदेय योजना
- (बी) केंद्र सरकार गृह योजना
- (सी) केंद्र सरकार स्वास्थ्य योजना
- (डी) केंद्र सरकार मानव योजना
42. सरकार को प्रतिपूर्ति योग्य बाल शिक्षा भत्ते की मासिक राशि। कर्मचारी है:-



- reimbursable to Govt. Employees is:-
- (a) 2750/-
- (b) 2500/-
- (c) 3250/-
- (d) 2250/-
43. A Government servant is deemed to have been placed under suspension, if he/she is detained in custody for a period exceeding:-
- (a) 6 Hours
- (b) 12 Hours
- (c) 24 Hours
- (d) 48 Hours
44. How many days of Earned leave can be encashed by a government employee along with LTC during his/her entire service period:-
- (a) 60
- (b) 40
- (c) 80
- (d) 100
45. The number of days of Child Care Leave, which can be availed by a Government employee during his/her entire service period:
- (a) 180
- (b) 365
- (c) 545
- (d) 730
46. The Maximum amount of Gratuity, which can be paid to a government employee on his/her superannuation is:-
- (a) 15 Lakh
- (ए) 2750/-
- (बी) 2500/-
- (सी) 3250/-
- (डी) 2250/-
43. एक सरकारी कर्मचारी को निलंबन के तहत रखा गया माना जाता है, यदि उसे अधिक अवधि के लिए हिरासत में रखा जाता है: -
- (ए) 6 घंटे
- (बी) 12 घंटे
- (सी) 24 घंटे
- (डी) 48 घंटे
44. एक सरकारी कर्मचारी द्वारा अपनी पूरी सेवा अवधि के दौरान एलटीसी के साथ कितने दिनों की अर्जित छुट्टी का नकदीकरण किया जा सकता है:-
- (ए) 60
- (बी) 40
- (सी) 80
- (डी) 100
45. बाल देखभाल अवकाश के दिनों की संख्या, जो एक सरकारी कर्मचारी अपनी पूरी सेवा अवधि के दौरान प्राप्त कर सकता है:
- (ए) 180
- (बी) 365
- (सी) 545
- (डी) 730
46. ग्रेच्युटी की अधिकतम राशि, जो एक सरकारी कर्मचारी को उसकी सेवानिवृत्ति पर भुगतान की जा सकती है:-
- (ए) 15 लाख

- (b) 20 Lakh
(c) 25 Lakh
(d) 10 Lakh
47. The % of Pension, which can be commuted by an employee on his/her superannuation: -
(a) 33
(b) 35
(c) 40
(d) 45
48. Which Ministry has the powers to modify GFR?
(a) Ministry of Defence
(b) Ministry of Law
(c) Ministry of Corporate Affairs
(d) Ministry of Finance
49. The term "GEM" stands for:-
(a) Government E-Marketplace
(b) Government Electronic Marketplace
(c) Government Employee Marketplace
(d) Government Employer Marketplace
50. A post carrying level '9' of 7th CPC will fall under category of :-
(a) Group D
(b) Group C
(c) Group A
(d) Group B
51. The Term "DDO" Stands for:
(a) Duty & Deployment Officer
(b) Duty & Disbursement Officer
- (बी) 20 लाख
(सी) 25 लाख
(डी) 10 लाख
47. पेंशन का प्रतिशत, जिसे कर्मचारी द्वारा उसकी सेवानिवृत्ति पर परिवर्तित किया जा सकता है:
(ए) 33
(बी) 35
(सी) 40
(डी) 45
48. GFR को संशोधित करने का अधिकार किस मंत्रालय के पास है?
(ए) रक्षा मंत्रालय
(बी) कानून मंत्रालय
(सी) कॉर्पोरेट मामलों के मंत्रालय
(डी) वित्त मंत्रालय
49. शब्द "GEM" का अर्थ है: -
(ए) सरकारी ई-मार्केटप्लेस
(बी) सरकारी इलेक्ट्रॉनिक मार्केटप्लेस
(सी) सरकारी कर्मचारी बाज़ार
(डी) सरकारी नियोक्ता बाज़ार
50. 7^{वें} सीपीसी के स्तर '9' (Level 9) वाले पद किस श्रेणी के अंतर्गत आएंगे:-
(ए) समूह डी
(बी) समूह सी
(सी) समूह ए
(डी) समूह बी
51. शब्द "डीडीओ" का अर्थ है: -
(ए) ड्यूटी और तैनाती अधिकारी
(बी) कर्तव्य और संवितरण अधिकारी



- (c) Drawing & Disbursement Officer
- (d) Drawing & Development Officer
52. The term "DoPT" Stands for:-
- (a) Department of Planning and Training
- (b) Department of Policy & Trade
- (c) Department of Promotion of Trade
- (d) Department of Personnel & Training
53. What is the Deputation Duty Allowance in respect of officers of Central Government / Autonomous Body appointed on the personal staff of Ministers ?
- (a) 10% of the Basic Pay subject to a maximum of Rs.4000 per month
- (b) 15% of the Basic Pay subject to a maximum of Rs.4000 per month
- (c) 20% of the Basic Pay subject to a maximum of Rs.5000 per month
- (d) 7 1/2% of the Basic Pay subject to a maximum of Rs.3000 per month
54. Who is competent to grant Advance Increment?
- (a) Authorities competent to create a post (Permanent / Temporary)
- (b) Head of the office
- (c) Head of the Department
- (d) Finance Secretary
55. Which of the following periods will not be counted for the purpose of increment?
- (सी) आहरण एवं संवितरण अधिकारी
- (डी) आहरण एवं विकास अधिकारी
52. शब्द "डीओपीटी" का अर्थ है: -
- (ए) योजना और प्रशिक्षण विभाग
- (बी) नीति और व्यापार विभाग
- (सी) व्यापार संवर्धन विभाग
- (डी) कार्मिक और प्रशिक्षण विभाग
53. मंत्रियों के निजी स्टाफ पर नियुक्त केंद्र सरकार/स्वायत्त निकाय के अधिकारियों के संबंध में प्रतिनियुक्ति शुल्क भत्ता क्या है?
- (ए) मूल वेतन का 10% प्रति माह अधिकतम 4000 रुपये प्रति माह
- (बी) मूल वेतन का 15% अधिकतम 4000 रुपये प्रति माह
- (सी) मूल वेतन का 20% अधिकतम 5000 रुपये प्रति माह
- (डी) मूल वेतन का 7 1/2% (7.5%) प्रति माह अधिकतम 3000 रुपये
54. अग्रिम वेतनवृद्धि देने के लिए कौन सक्षम है?
- (ए) पद सृजित करने के लिए सक्षम प्राधिकारी (स्थायी/अस्थायी)
- (बी) कार्यालय के प्रमुख
- (सी) विभाग के प्रमुख
- (डी) वित्त सचिव
55. वेतन वृद्धि के प्रयोजन के लिए निम्नलिखित में से किस अवधि की गणना नहीं की जाएगी?
- (ए) सभी प्रकार के कर्तव्य

- (a) All kinds of duty
(b) Joining Time
(c) EOL without MC for more than six months
(d) Foreign Service
56. What is the time-limit from entry into Government service within which an alteration of the date of birth can be made?
(a) 02 years
(b) 04 years
(c) 03 years
(d) 05 years
57. Appointment of meritorious sportspersons can be made to any post in.....
(a) Group A
(b) Group B
(c) Group C
(d) All of the above
58. Mr. "X" drawing pay of Rs.60,000 in Level-7 was promoted to a post involving higher responsibilities in Level - 8 on 10-4-2017. Fix his pay?
(a) Rs.64,100
(b) Rs.62,200
(c) Rs.66,000
(d) Rs.60,400
59. Leave should not be sanctioned during.....
(a) Suspension
(b) Transfer
(c) Tour
(d) Joining Time
- (बी) शामिल होने का समय (Joining Time)
(सी) छह महीने से अधिक के लिए एमसी के बिना EOL (असाधारण अवकाश)
(डी) विदेश सेवा
56. सरकारी सेवा में प्रवेश की समय-सीमा क्या है जिसके भीतर जन्म तिथि में परिवर्तन किया जा सकता है?
(ए) 02 साल
(बी) 04 साल
(सी) 03 साल
(डी) 05 साल
57. मेधावी खिलाड़ियों की नियुक्ति निम्न में से में किस पद पर की जा सकती है
(ए) समूह ए
(बी) समूह बी
(सी) समूह सी
(D) उपरोक्त सभी
58. श्रीमान "X" को लेवल-7 में 60,000 रुपये का वेतन मिलता है, जिसे 10-4-2017 को लेवल-8 में उच्च जिम्मेदारियों वाले पद पर पदोन्नत किया गया था। उसका वेतन ठीक करो?
(ए) रुपये 64,100
(बी) रुपये 62,200
(सी) रुपये 66,000
(डी) रुपये 60,400
59. के दौरान छुट्टी मंजूर नहीं की जानी चाहिए
(ए) निलंबन
(बी) स्थानांतरण
(सी) टूर
(डी) शामिल होने का समय (Joining Time)



60. A Central Govt. employee is eligible to avail LTC if s/he has completed one year's continuous service as on:
- The date of outward journey
 - The date of application for availing LTC
 - The date of completion of journey
 - The date of submission of his/her LTC claim
61. A material will generally be considered surplus if it remains in stock for over _____ unless adequate reasons to treat it otherwise exist:
- Two years
 - Three years
 - Four years
 - One year
62. The review committee of a work project has the power to accept variation of the approved estimate of the work within ____:
- 5 %
 - 6 %
 - 10 %
 - Up to any limit
63. Pick the incorrectly matched:
- Assets of artistic value held by government - GFR 24
 - Library Books - GFR 24
 - Consumables, chemical - GFR 23
 - Fixed Assets - GFR 22
64. The advances given to the Government employees are :
- Computer & House Building Advance
60. केंद्र सरकार का एक कर्मचारी एलटीसी का लाभ उठाने के लिए पात्र है यदि उसने एक वर्ष की निरंतर सेवा पूरी कर ली है:
- जावक यात्रा की तारीख
 - एलटीसी का लाभ उठाने के लिए आवेदन की तिथि
 - यात्रा के पूरा होने की तारीख
 - उसके एलटीसी दावे को जमा करने की तिथि
61. एक सामग्री को आम तौर पर अधिशेष माना जाएगा यदि वह _____ से अधिक के लिए स्टॉक में रहती है जब तक कि इसके इस तरह से अप्रयोज्य रहने के पर्याप्त कारण मौजूद न हों:
- दो साल
 - तीन साल
 - चार साल
 - एक साल
62. एक कार्य परियोजना की समीक्षा समिति के पास _____ के भीतर कार्य के स्वीकृत अनुमान के बदलाव को स्वीकार करने की शक्ति है:
- 5%
 - 6%
 - 10%
 - किसी भी सीमा तक
63. गलत सुमेलित को चुनें:
- सरकार द्वारा आयोजित कलात्मक मूल्य की संपत्ति - जीएफआर 24
 - पुस्तकालय पुस्तकें - जीएफआर 24
 - उपभोज्य, रसायन - जीएफआर 23
 - अचल संपत्ति - जीएफआर 22
64. सरकारी कर्मचारियों को दिए जा सकने वाले अग्रिम हैं:
- कंप्यूटर और हाउस बिल्डिंग एडवांस


- (b) Motor Car & Computer Advance
(c) Motor Car & House Building Advance
(d) Motor Car & Motorcycle Advance
65. Commuted portion of pension is restored after expiry of years from the date of retirement.
(a) 20
(b) 15
(c) 12
(d) 10
66. Extra Work Allowance is paid @ % of the basic pay per month to the eligible employees.
(a) 2
(b) 3
(c) 4
(d) 5
67. If an employee, on transfer, retains Government accommodation at the old station, HRA at the new station shall be:
(a) Not allowed
(b) Allowed for 03 months only
(c) Allowed for 06 months only
(d) Allowed for 08 months only
68. Article.....of the Constitution provides for obtaining a vote on account pending passing of the Budget:
(a) 112
(b) 115
(c) 116
(d) 117
- (बी) मोटर कार और कंप्यूटर अग्रिम
(सी) मोटर कार और हाउस बिल्डिंग एडवांस
(डी) मोटर कार और मोटरसाइकिल अग्रिम
65. पेंशन का परिवर्तित हिस्सा सेवानिवृत्ति की तारीख से वर्ष की समाप्ति के बाद बहाल किया जाता है।
(ए) 20
(बी) 15
(सी) 12
(डी) 10
66. पात्र कर्मचारियों को प्रति माह मूल वेतन के% की दर से अतिरिक्त कार्य भत्ता दिया जाता है।
(ए) 2
(बी) 3
(सी) 4
(डी) 5
67. यदि कोई कर्मचारी, स्थानांतरण पर, पुराने स्टेशन पर सरकारी आवास रखता है, तो नए स्टेशन पर एचआरए होगा:
(ए) की अनुमति नहीं है
(बी) केवल 03 महीने के लिए अनुमति है
(सी) केवल 06 महीने के लिए अनुमति है
(डी) केवल 08 महीने के लिए अनुमति है
68. संविधान का अनुच्छेद बजट पारित होने तक लेखानुदान प्राप्त करने का प्रावधान करता है:
(ए) 112
(बी) 115
(सी) 116
(डी) 117

69. Article.....of the Constitution permits obtaining of Supplementary Grant or Appropriation:
- (a) 112
(b) 115(1)
(c) 113
(d) 115(2)
70. Registered suppliers are eligible for consideration for procurement of goods through:
- (a) Advertised Tender Enquiry
(b) Limited Tender Enquiry
(c) Single Tender Enquiry
(d) All of the above
71. Debit balance as per cash book of ABC Co. on 31.03.2020 is Rs. 1,00,000. Cheque deposited but not cleared amounts to Rs. 20,000 and cheque issued but not presented of Rs. 15,000. Balance as per passbook should be:
- (a) Rs. 1,35,000
(b) Rs. 95,000
(c) Rs. 75,000
(d) Rs. 1,05,000
72. While preparing the annual accounts of an educational institution which of the following statement is not prepared:
- (a) Balance Sheet
(b) Income and Expenditure Account
(c) Profit and Loss Account
(d) None of the above
73. Who should primarily be part of the committee to select Chief Election Commissioner and other information commissioners:
69. संविधान का अनुच्छेद अनुपूरक अनुदान या विनियोग प्राप्त करने की अनुमति देता है:
- (ए) 112
(बी) 115(1)
(सी) 113
(डी) 115(2)
70. पंजीकृत आपूर्तिकर्ता निम्नलिखित के माध्यम से माल की खरीद के लिए विचार के लिए पात्र हैं:
- (ए) विज्ञापित निविदा पूछताछ
(बी) सीमित निविदा पूछताछ
(सी) एकल निविदा पूछताछ
(D) उपरोक्त सभी
71. एबीसी कंपनी की कैश बुक के अनुसार 31.03.2020 को डेबिट बैलेंस रु 1,00,000 था। राशि रु 20,000 का चेक जमा किया गया लेकिन निकासी नहीं की गई और राशि रु 15,000 का चेक जारी किया गया लेकिन भुगतान हेतु प्रस्तुत नहीं किया गया। पासबुक के अनुसार शेष राशि होनी चाहिए:
- (ए) रुपये 1,35,000
(बी) रुपये 95,000
(सी) रुपये 75,000
(डी) रुपये 1,05,000
72. एक शैक्षणिक संस्थान का वार्षिक लेखा तैयार करते समय निम्नलिखित में से कौन सा विवरण तैयार नहीं किया जाता है:
- (ए) बैलेंस शीट
(बी) आय और व्यय खाता
(सी) लाभ और हानि खाता
(डी) उपरोक्त में से कोई नहीं
73. मुख्य चुनाव आयुक्त और अन्य सूचना आयुक्तों का चयन करने के लिए मुख्य रूप से समिति का हिस्सा कौन होना चाहिए:



- (a) President of India
(b) Chief Justice of Supreme of India
(c) Prime Minister of the country
(d) Home Minister of the country
74. What is the % of total post earmarked and kept reserved for candidates belongs Scheduled Caste in Direct Recruitment on all India Basis by Open Competition?
(a) 7.5
(b) 15
(c) 22.5
(d) 27.5
75. What will be extended zone of consideration for SC/ST Candidates for making promotion on 4 vacant positions?
(a) 12
(b) 16
(c) 20
(d) 24
76. The upper age limit prescribed for direct recruitment shall be relaxed by years in respect of OBC Candidates.
(a) 3
(b) 5
(c) 7
(d) 10
77. Full form of NAD:
(a) National Accreditation Depository
(b) National Academic Depository
(c) National Assessment Depository
(d) National Active Depository
- (ए) भारत के राष्ट्रपति
(बी) भारत के सर्वोच्च के मुख्य न्यायाधीश
(सी) देश के प्रधान मंत्री
(डी) देश के गृह मंत्री
74. खुली प्रतियोगिता द्वारा अखिल भारतीय आधार पर सीधी भर्ती में अनुसूचित जाति के उम्मीदवारों के लिए निर्धारित और आरक्षित कुल पद का प्रतिशत क्या है?
(ए) 7.5
(बी) 15
(सी) 22.5
(डी) 27.5
75. 4 रिक्त पदों पर पदोन्नति करने के लिए अनुसूचित जाति/अनुसूचित जनजाति के उम्मीदवारों के लिए विचार क्षेत्र (Zone of Consideration) कितना बढ़ाया जाएगा?
(ए) 12
(बी) 16
(सी) 20
(डी) 24
76. सीधी भर्ती के लिए निर्धारित ऊपरी आयु सीमा में अन्य पिछड़ा वर्ग के उम्मीदवारों के संबंध में वर्ष की छूट दी जाएगी।
(ए) 3
(बी) 5
(सी) 7
(डी) 10
77. एनएडी का पूर्ण रूप:
(ए) राष्ट्रीय प्रत्यायन डिपॉजिटरी
(बी) राष्ट्रीय शैक्षणिक डिपॉजिटरी
(सी) राष्ट्रीय मूल्यांकन डिपॉजिटरी
(डी) राष्ट्रीय सक्रिय डिपॉजिटरी

78. Fullform of QS Rankings:
- Quacquarelli Symond Rankings
 - Quacquareli Symands Rankings
 - Quacquarely Symonds Rankings
 - Quacquarelli Symonds Rankings
79. Ordinances of NID MP shall be made by the:
- Governing Council
 - Senate
 - Director
 - Academic Cell
80. ___ shall have the control and general regulation, and be responsible for the maintenance of standards of instruction, education and examination at NID MP, subject to the provisions of NID (amendment) Act.
- Governing Council
 - Senate
 - Ministry of Commerce and Industry
 - DPIIT
81. The Visitor of the National Institutes of Design :
- Governor of the respective State
 - President of India
 - Nominee by the President
 - Prime Minister of India
82. The Grant-in-aid may be sanctioned by any authority competent to do so under the delegation of financial power rules to an autonomous organization registered under:
- Society Registration Act, 1960
78. क्यूएस रैंकिंग का पूर्ण रूप:
- Quacquarelli Symond Rankings
 - Quacquareli Symands Rankings
 - Quacquarely Symonds Rankings
 - Quacquarelli Symonds Rankings
79. NID MP के अध्यादेश किसके द्वारा बनाए जाएंगे:
- शासी परिषद
 - सीनेट
 - निदेशक
 - अकादमिक सेल
80. ___ का नियंत्रण और सामान्य विनियमन होगा, और एनआईडी (संशोधन) अधिनियम के प्रावधानों के अधीन, एनआईडी एमपी में निर्देश, शिक्षा और परीक्षा के मानकों के रखरखाव के लिए जिम्मेदार होगा।
- शासी परिषद
 - सीनेट
 - वाणिज्य और उद्योग मंत्रालय
 - डीपीआईआईटी
81. राष्ट्रीय डिजाइन संस्थान के कुलाध्यक्ष (Visitor) है:
- संबंधित राज्य के राज्यपाल
 - भारत के राष्ट्रपति
 - राष्ट्रपति द्वारा नामित
 - भारत के प्रधान मंत्री
82. वित्तीय शक्ति नियमों के प्रत्यायोजन के तहत पंजीकृत किसी स्वायत्त संगठन को ऐसा करने के लिए सक्षम प्राधिकारी द्वारा सहायता अनुदान स्वीकृत किया जा सकता है:
- सोसायटी पंजीकरण अधिनियम, 1960
 - भारतीय ट्रस्ट अधिनियम, 1882



- (b) Indian Trust Act, 1882
(c) Society Registration Act, 1860
(d) Indian Trust Act, 1880
83. While typing H₂O in computer. What is typed in keyboard to get the 2 in the desired format and what is the phenomenon called:
(a) Shift Control + and Superscript
(b) Control + and Subscript
(c) Shift Control + and Subscript
(d) Control + and Superscript
84. The year in which the Right to Information rules came into force:
(a) 2005
(b) 2008
(c) 2012
(d) 2014
85. Under the RTI Act, the application to other public authority under section 6(3) of the Act shall be transferred within..... days.
(a) 3
(b) 5
(c) 7
(d) 10
86. The Chief information Commissioner may impose a penalty of a maximum amount of Rs.... :
(a) 10,000
(b) 15,000
(c) 20,000
(d) 25,000
87. What is the limit of procurement made by Public Authorities to be disclosed on implementation of
- (सी) सोसायटी पंजीकरण अधिनियम, 1860
(डी) भारतीय ट्रस्ट अधिनियम, 1880
83. कंप्यूटर में H₂O टाइप करते समय वांछित प्रारूप में 2 प्राप्त करने के लिए कीबोर्ड में क्या टाइप किया जाता है और इस घटना को क्या कहा जाता है:
(ए) शिफ्ट कंट्रोल + और सुपरस्क्रिप्ट
(बी) नियंत्रण + और सदस्यता
(सी) शिफ्ट कंट्रोल + और सबस्क्रिप्ट
(डी) नियंत्रण + और सुपरस्क्रिप्ट
84. जिस वर्ष सूचना का अधिकार नियम लागू हुआ:
(ए) 2005
(बी) 2008
(सी) 2012
(डी) 2014
85. आरटीआई अधिनियम के तहत, अधिनियम की धारा 6(3) के तहत अन्य सार्वजनिक प्राधिकरण को आवेदन दिनों के भीतर स्थानांतरित कर दिया जाएगा।
(ए) 3
(बी) 5
(सी) 7
(डी) 10
86. मुख्य सूचना आयुक्त अधिकतम रु..... की राशि का जुर्माना लगा सकता है:
(ए) 10,000
(बी) 15,000
(सी) 20,000
(डी) 25,000
87. सूचना का अधिकार अधिनियम की धारा 4 के तहत कितने रुपये तक के व्यापक और संपूर्ण ई-



- comprehensive and end-to end e-procurement under Section 4 of RTI Act ?
- (a) Rs.5 lakhs
(b) Rs.10 Lakhs
(c) Rs.20 Lakhs
(d) Rs.50 Lakhs
88. What is the total amount of penalty that can be imposed on a CPIO for knowingly giving incorrect, incomplete or misleading information?
- (a) Not exceeding Rs.10,000
(b) Not exceeding Rs.25,000
(c) Not exceeding Rs.50,000
(d) Not exceeding Rs.100,000
89. Right to Information Act does not require the Public Information Officer to.....from the materials available and provide same to the applicant.
- (a) Come to a conclusion.
(b) Make copies.
(c) Provide details.
(d) Call out information.
90. What is the fee prescribed for the first hour of inspection of records of a public authority?
- (a) Rs.5
(b) Rs.10
(c) Rs.20
(d) No fee
91. Select the option with the correct spelling
- (a) Commission
(b) Commisson
(c) Commision
(d) Comission
- खरीद के कार्यान्वयन पर सार्वजनिक प्राधिकरणों द्वारा जानकारी उपलब्ध करवायी जानी है?
- (ए) रुपये 5 लाख
(बी) रुपये १० लाख
(सी) रुपये २० लाख
(डी) रुपये 50 लाख
88. जानबूझकर गलत, अधूरी या भ्रामक जानकारी देने के लिए किसी सीपीआईओ पर कितनी राशि तक का जुर्माना लगाया जा सकता है?
- (ए) 10,000 रुपये से अधिक नहीं
(बी) 25,000 रुपये से अधिक नहीं
(सी) 50,000 रुपये से अधिक नहीं
(डी) 100,000 रुपये से अधिक नहीं
89. सूचना का अधिकार अधिनियम के अनुसार जन सूचना अधिकारी को उपलब्ध सामग्री में से निम्न में से किस कार्य करने और उसे आवेदक उपलब्ध कराने की आवश्यकता नहीं है।
- (ए) किसी निष्कर्ष पर आना।
(बी) प्रतियाँ बनाना।
(सी) विवरण प्रदान करना।
(डी) जानकारी प्रदान करना।
90. लोक प्राधिकरण के अभिलेखों के निरीक्षण के पहले घंटे के लिए निर्धारित शुल्क क्या है?
- (ए) रुपये ५
(बी) रुपये १०
(सी) रुपये २०
(डी) कोई शुल्क नहीं
92. Select the option with the correct spelling
- (a) Necessarry
(b) Necessary
(c) Necessary
(d) Neccessary

93. Select the option with the correct spelling
- (a) Aceelerate
 - (b) Acelerate
 - (c) Accelerate
 - (d) Acellrate
94. Select the option with the correct spelling
- (a) Exhilaration
 - (b) Exhilaaraation
 - (c) Exhilaritytion
 - (d) Exhilarition
95. Select the option with the correct spelling
- (a) Pugnacyous
 - (b) Pugnaceous
 - (c) Pugnasiuous
 - (d) Pugnacious
96. Select the option which contains the correct Answer.
- (a) Had I been you I would help him.
 - (b) If I had been you I would help him.
 - (c) Should I you I would help him.
 - (d) Were I you I would help him.
97. Select the option which contains the correct Answer.
- (a) The team is confident to win the match.
 - (b) The team is confident of winning the match.
 - (c) The team is confident for win the match.
 - (d) The team is confident for winning the match.
98. Choose the most appropriate option to replace the underlined part:
- Where did you park the car?*
- (a) parked
 - (b) you parked
 - (c) did you parked
 - (d) No Replacement needed
99. In the following sentence find out which part of the sentence has an error.
- Being that my car is getting its annual check-up, I will not be able to pick you up tomorrow morning.*
- (a) Being that
 - (b) my car is getting its
 - (c) annual check-up, I will not
 - (d) be able to pick you up tomorrow morning
100. In the following sentence find out which part of the sentence has an error.
- He is not the kind of a person who takes such a treatment lying down.*
- (a) He is not the kind of a person
 - (b) who
 - (c) takes
 - (d) such a treatment lying down
101. Antonym of Overstrung is
- (a) excited
 - (b) calm
 - (c) enthusiastic
102. Antonym of Malignant is
- (a) Early
 - (b) Courage
 - (c) Ease

- (d) cheerful
103. Antonym of **Assuage** is
- (a) Economical
(b) Aggravate
(c) Delicious
(d) Demolish
105. Antonym of **Decline** is
- (a) Renounce
(b) Pronounce
(c) Confeccs
(d) Confess
107. Synonym of **Upbraided** is
- (a) make tails
(b) make up
(c) scolded
(d) handed
109. The following option bears similar meaning as the word **CONNOISSEUR**
- (a) Lover of art
(b) Ignorant
(c) Stubborn
(d) Violent
111. Synonym of **DEMISE** is
- (a) Sorrow
(b) Birth
(c) Death
(d) None of the above
113. Synonym of **SCEPTICISM** is
- (a) Dubiousness
(b) Precision
(c) Consecrated
(d) None of the above
- (d) Benevolent
104. Antonym of **Contemporary** is
- (a) Recent
(b) Modern
(c) Ancient
(d) Grif
106. Synonym of **Meddle** is
- (a) intercede
(b) impose
(c) cross
(d) interfere
108. Synonym of **Reprimand** is
- (a) praise
(b) punishment
(c) rebuke
(d) reward
110. Synonym of **OUTWEIGHT** is
- (a) Surpass
(b) Perish
(c) Venture
(d) Control
112. Synonym of **MOTIVE** is
- (a) Sorrow
(b) Design
(c) Desire
(d) hunger
114. Chose the correct option.
_____ by people's perception it seems that democracy has succeeded in India.
- (a) Following
(b) Going
(c) Making



115. Choose the correct option.
They have decided to meet the Prime Minister in order to have their _____ heard.
- (a) agony
 - (b) apathy
 - (c) woes
 - (d) sufferings
117. Choose the correct option.
Maalti is fed up _____ the weather
- (a) from
 - (b) with
 - (c) over
 - (d) about
119. Choose the correct option.
The ship with all its crew..... lost after the terrible storm.
- (a) Were
 - (b) has
 - (c) Have
 - (d) was
- (d) Planned
116. Choose the correct option.
He sold his property because he was under a lot of _____.
- (a) Account
 - (b) debt
 - (c) loan
 - (d) credit
118. Choose the correct option.
There is no culture in the world..... absolutely pure.
- (a) That which is
 - (b) That which
 - (c) That is
 - (d) That what is
120. Choose the correct option.
The lease of our premises has.....and we have to vacate it.
- (a) Run out
 - (b) Run off
 - (c) Run over
 - (d) Run down

राष्ट्रीय डिजाइन संस्थान, मध्य प्रदेश National Institute of Design, Madhya Pradesh

सहायक प्रशासनिक अधिकारी के पद के लिए कौशल परीक्षा
Skill test for the position of Assistant Administrative Officer

समय: 45 मिनट, Time: 45 minutes अधिकतम अंक: 50, Max. Marks: 50


उम्मीदवारों को निर्देश Instructions to candidates

1. कौशल परीक्षा को पास करने के लिए न्यूनतम योग्यता अंक 45% हैं।
1. Minimum qualifying marks to clear the skill test are 45%.
2. प्रश्न संख्या 1 का उत्तर 18 मिनट के भीतर देना होगा। आपको इस अवधि के अंत में टाइप किए गए पाठ को सहेजना होगा।
2. Question number 1 shall be answered within 18 minutes. You are required to save the typed text at the end of this period.
3. एमएस पावरपॉइंट स्लाइड का मूल्यांकन उम्मीदवार के कौशल और अवधारणा के आधार पर किया जाएगा।
3. MS PowerPoint slide shall be evaluated on the basis of candidate's skills and conceptualization.
4. एमएस एक्सेल/ बार चार्ट का मूल्यांकन मापदंडों की शुद्धता, सूत्रों के उपयोग से डेटा की शुद्धता और चार्ट में डेटा के आधार पर किया जाएगा।
4. MS Excel/ bar chart shall be evaluated on the basis of correctness of data arrived at by use of formulae and parameters in the chart.

कौशल परीक्षा Skill Test

प्रश्न संख्या 1. XYZ विश्वविद्यालय की केंद्रीय रजिस्ट्री में डाक की प्राप्ति, पंजीकरण, वितरण एवं विभागों में डाक की प्राप्ति पर कार्रवाई के लिए नीति का मसौदा तैयार करें। (20)

Q. No. 1. Make a draft policy for the receipt, registration, distribution of dak in Central Registry of XYZ University and action on dak's receipt in the departments. (20)



प्रश्न संख्या 2. XYZ प्रौद्योगिकी संस्थान देश के विभिन्न स्थानों पर MCQ आधारित प्रवेश परीक्षा आयोजित करने की योजना बना रहा है। MS PowerPoint स्लाइड्स पर पॉइंट (बिंदु) रूप में परीक्षण की अवधारणा से लेकर परीक्षा केंद्रों पर परीक्षा का संचालन तक की प्रक्रिया का प्रस्ताव करें। आप क्लिप आर्ट / एनीमेशन का उपयोग कर सकते हैं। (10)

Q. No. 2. XYZ Institute of Technology plans to conduct a MCQ based admission test at various locations in the country. Propose the procedure from conceptualization of test to conduct of test at tests centers in point form on MS PowerPoint slides. You can use clip art/ animation. (10)

प्रश्न संख्या 3. दिनांक 03.07.2021 को दीपू टायर फैक्ट्री के विभिन्न विभागों में कार्यरत विभिन्न श्रमिकों का डाटा नीचे दिया गया है:

Q. No. 3. The data about various workers, working in different departments of Deepu Tyre Factory on 03.07.2021 is given below:

Name	Production Quantity	Working hours	Wages per Hour	Total Wages
Mohan	10	5	5.80	
Abdul	9	3	6.30	
Shyam	11	4	4.90	
Ravi	9	4	5.00	
Joginder	10	4	8.00	
Peter	10	5	6.50	
Bhushan	12	4	4.50	
Sarabjeet	11	4	7.00	
Imran	14	3	6.00	
Dennis	12	5	6.75	

क) MS एक्सेल का उपयोग करके प्रत्येक श्रमिक के कुल वेतन की गणना करें। (5)


a) Calculate total wages of each employee using MS Excel formulae. (5)

ख) MS एक्सेल का उपयोग करके तालिका में पहले पांच श्रमिकों और अंतिम पांच श्रमिकों के कुल संचयी वेतन के बीच अंतर की गणना करें । (10)

b) Calculate the difference between total cumulative wages of first five employees and last five employees in the table; using MS Excel formulae. (10)


ग) एक बार चार्ट में सभी श्रमिकों के कुल वेतन की तुलना करें । (5)



c) Compare total wages of all the workers in a bar chart. (5)



Final Answer Key Set -A for the post of AAO Exam dated 08.07.2021


1	A
2	B
3	C
4	A
5	D
6	D
7	B
8	D
9	A
10	B
11	B
12	D
13	B
14	C
15	D
16	D
17	C
18	B
19	A
20	A
21	C
22	B
23	A
24	B
25	D
26	B
27	B
28	C
29	D
30	A
31	A
32	C
33	D
34	D
35	D
36	A
37	A
38	C
39	A
40	D
41	A
42	A
43	D
44	C
45	B





46	C
47	B
48	A
49	A
50	C
51	B
52	C
53	C
54	C
55	C
56	D
57	A
58	A
59	B
60	C
61	A
62	C
63	C
64	B
65	C
66	B
67	C
68	A
69	B
70	A
71	C
72	D
73	D
74	A
75	D
76	B
77	C
78	D
79	A
80	D
81	C
82	D
83	B
84	A
85	C
86	D
87	C
88	B
89	A
90	A
91	D
92	C

93	B
94	A
95	B
96	A
97	D
98	C
99	B
100	B
101	B
102	C
103	C
104	B
105	C
106	A
107	B
108	D
109	B
110	B
111	B
112	C
113	B
114	C
115	B
116	D
117	B
118	B
119	A
120	D



Application No.										
N	ID	MP	/	S	U	P	D	T	/	00054
Instructions:										
1. To darken circle, use Black/Blue Ball Pen only										
2. Don't fold or make unnecessary marks on the sheet.										
3. Don't do any kind of rough work on the answer sheet.										
4. Each question has only one correct answer.										
5. Correct Answer: 01 Marks; Wrong Answer: -0.25 Marks										
6. Darken the circle completely.										
Correct Method					Wrong Method					
<input type="radio"/> <input checked="" type="radio"/> <input type="radio"/> <input type="radio"/>					<input checked="" type="radio"/> <input type="radio"/> <input type="radio"/> <input type="radio"/>					

Name	SAROJ VERMA
DOB	26 / 03 / 1992
Exam Date	07 / 07 / 2021
Post Name	SUPERINTENDENT
Paper Code	
Candidate's Signature	Invigilator's Signature

1	(A) (B) (C) (D) (E)	41	(A) (B) (C) (D) (E)	81	(A) (B) (C) (D) (E)	121	(A) (B) (C) (D) (E)
2	(A) (B) (C) (D) (E)	42	(A) (B) (C) (D) (E)	82	(A) (B) (C) (D) (E)	122	(A) (B) (C) (D) (E)
3	(A) (B) (C) (D) (E)	43	(A) (B) (C) (D) (E)	83	(A) (B) (C) (D) (E)	123	(A) (B) (C) (D) (E)
4	(A) (B) (C) (D) (E)	44	(A) (B) (C) (D) (E)	84	(A) (B) (C) (D) (E)	124	(A) (B) (C) (D) (E)
5	(A) (B) (C) (D) (E)	45	(A) (B) (C) (D) (E)	85	(A) (B) (C) (D) (E)	125	(A) (B) (C) (D) (E)
6	(A) (B) (C) (D) (E)	46	(A) (B) (C) (D) (E)	86	(A) (B) (C) (D) (E)	126	(A) (B) (C) (D) (E)
7	(A) (B) (C) (D) (E)	47	(A) (B) (C) (D) (E)	87	(A) (B) (C) (D) (E)	127	(A) (B) (C) (D) (E)
8	(A) (B) (C) (D) (E)	48	(A) (B) (C) (D) (E)	88	(A) (B) (C) (D) (E)	128	(A) (B) (C) (D) (E)
9	(A) (B) (C) (D) (E)	49	(A) (B) (C) (D) (E)	89	(A) (B) (C) (D) (E)	129	(A) (B) (C) (D) (E)
10	(A) (B) (C) (D) (E)	50	(A) (B) (C) (D) (E)	90	(A) (B) (C) (D) (E)	130	(A) (B) (C) (D) (E)
11	(A) (B) (C) (D) (E)	51	(A) (B) (C) (D) (E)	91	(A) (B) (C) (D) (E)	131	(A) (B) (C) (D) (E)
12	(A) (B) (C) (D) (E)	52	(A) (B) (C) (D) (E)	92	(A) (B) (C) (D) (E)	132	(A) (B) (C) (D) (E)
13	(A) (B) (C) (D) (E)	53	(A) (B) (C) (D) (E)	93	(A) (B) (C) (D) (E)	133	(A) (B) (C) (D) (E)
14	(A) (B) (C) (D) (E)	54	(A) (B) (C) (D) (E)	94	(A) (B) (C) (D) (E)	134	(A) (B) (C) (D) (E)
15	(A) (B) (C) (D) (E)	55	(A) (B) (C) (D) (E)	95	(A) (B) (C) (D) (E)	135	(A) (B) (C) (D) (E)
16	(A) (B) (C) (D) (E)	56	(A) (B) (C) (D) (E)	96	(A) (B) (C) (D) (E)	136	(A) (B) (C) (D) (E)
17	(A) (B) (C) (D) (E)	57	(A) (B) (C) (D) (E)	97	(A) (B) (C) (D) (E)	137	(A) (B) (C) (D) (E)
18	(A) (B) (C) (D) (E)	58	(A) (B) (C) (D) (E)	98	(A) (B) (C) (D) (E)	138	(A) (B) (C) (D) (E)
19	(A) (B) (C) (D) (E)	59	(A) (B) (C) (D) (E)	99	(A) (B) (C) (D) (E)	139	(A) (B) (C) (D) (E)
20	(A) (B) (C) (D) (E)	60	(A) (B) (C) (D) (E)	100	(A) (B) (C) (D) (E)	140	(A) (B) (C) (D) (E)
21	(A) (B) (C) (D) (E)	61	(A) (B) (C) (D) (E)	101	(A) (B) (C) (D) (E)	141	(A) (B) (C) (D) (E)
22	(A) (B) (C) (D) (E)	62	(A) (B) (C) (D) (E)	102	(A) (B) (C) (D) (E)	142	(A) (B) (C) (D) (E)
23	(A) (B) (C) (D) (E)	63	(A) (B) (C) (D) (E)	103	(A) (B) (C) (D) (E)	143	(A) (B) (C) (D) (E)
24	(A) (B) (C) (D) (E)	64	(A) (B) (C) (D) (E)	104	(A) (B) (C) (D) (E)	144	(A) (B) (C) (D) (E)
25	(A) (B) (C) (D) (E)	65	(A) (B) (C) (D) (E)	105	(A) (B) (C) (D) (E)	145	(A) (B) (C) (D) (E)
26	(A) (B) (C) (D) (E)	66	(A) (B) (C) (D) (E)	106	(A) (B) (C) (D) (E)	146	(A) (B) (C) (D) (E)
27	(A) (B) (C) (D) (E)	67	(A) (B) (C) (D) (E)	107	(A) (B) (C) (D) (E)	147	(A) (B) (C) (D) (E)
28	(A) (B) (C) (D) (E)	68	(A) (B) (C) (D) (E)	108	(A) (B) (C) (D) (E)	148	(A) (B) (C) (D) (E)
29	(A) (B) (C) (D) (E)	69	(A) (B) (C) (D) (E)	109	(A) (B) (C) (D) (E)	149	(A) (B) (C) (D) (E)
30	(A) (B) (C) (D) (E)	70	(A) (B) (C) (D) (E)	110	(A) (B) (C) (D) (E)	150	(A) (B) (C) (D) (E)
31	(A) (B) (C) (D) (E)	71	(A) (B) (C) (D) (E)	111	(A) (B) (C) (D) (E)	151	(A) (B) (C) (D) (E)
32	(A) (B) (C) (D) (E)	72	(A) (B) (C) (D) (E)	112	(A) (B) (C) (D) (E)	152	(A) (B) (C) (D) (E)
33	(A) (B) (C) (D) (E)	73	(A) (B) (C) (D) (E)	113	(A) (B) (C) (D) (E)	153	(A) (B) (C) (D) (E)
34	(A) (B) (C) (D) (E)	74	(A) (B) (C) (D) (E)	114	(A) (B) (C) (D) (E)	154	(A) (B) (C) (D) (E)
35	(A) (B) (C) (D) (E)	75	(A) (B) (C) (D) (E)	115	(A) (B) (C) (D) (E)	155	(A) (B) (C) (D) (E)
36	(A) (B) (C) (D) (E)	76	(A) (B) (C) (D) (E)	116	(A) (B) (C) (D) (E)	156	(A) (B) (C) (D) (E)
37	(A) (B) (C) (D) (E)	77	(A) (B) (C) (D) (E)	117	(A) (B) (C) (D) (E)	157	(A) (B) (C) (D) (E)
38	(A) (B) (C) (D) (E)	78	(A) (B) (C) (D) (E)	118	(A) (B) (C) (D) (E)	158	(A) (B) (C) (D) (E)
39	(A) (B) (C) (D) (E)	79	(A) (B) (C) (D) (E)	119	(A) (B) (C) (D) (E)	159	(A) (B) (C) (D) (E)
40	(A) (B) (C) (D) (E)	80	(A) (B) (C) (D) (E)	120	(A) (B) (C) (D) (E)	160	(A) (B) (C) (D) (E)

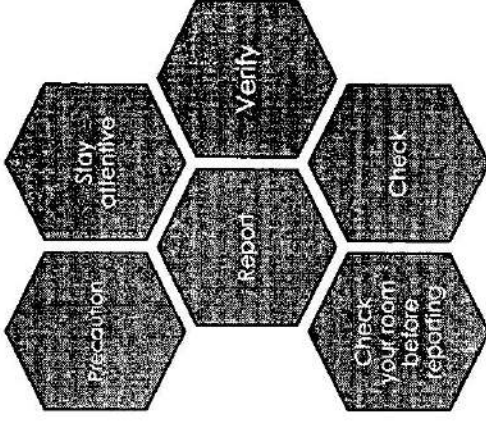


XYZ INSTITUTE OF TECHNOLOGY

RULES AND REGULATIONS FOR STUDENTS
(IN CASE OF THEFT)



- ▶ Students must ensure that they take care of their belongings on their own institute shall not take responsibility of any kind of their loss. However, Institute will help them in any of the way possible.
- ▶ Students are advised to report any kind of theft to their warden/ security cum estate officer in written
- ▶ Students must follow following to avoid any kind of mishap



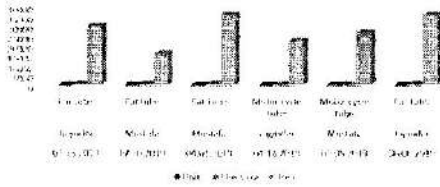


Order Date	Representative	Item	Units	Unit Cost	Total
01.06.2019	Shyam	Motor cycle tube	95	299.99	28499.05
01.23.2019	Joginder	Car tube	50	599.99	29999.50
02.09.2019	Tony	Motor cycle tube	36	299.99	10799.64
02.26.2019	Mustafa	Car tube	27	599.99	16199.73
03.15.2019	Tony	Motor cycle tube	56	299.99	16799.44
04.01.2019	Mustafa	Car tube	60	599.99	35999.40
04.18.2019	Joginder	Motor cycle tube	75	299.99	22499.25
05.05.2019	Mustafa	Motor cycle tube	90	299.99	26999.10
05.22.2019	Shyam	Motor cycle tube	32	299.99	9599.68
06.08.2019	Joginder	Car tube	60	599.99	35999.40
Grand Total					233394.19

A

- Q3. (i) Total value of each order is mentioned in the column G.
 Q3. (ii) Grand Total of all order = 233394.19

Chart Title




B

Total order received from

Sno.	Representative	Item	Units
1	Joginder	Car tube	110
2	Mustafa	Car tube	87
3	Joginder	Motor cycle tube	75
4	Mustafa	Motor cycle tube	90

B

Units



XYZ INSTITUTE
THE GOVT OF INDIA

Ref No.2021/01

Date: 07.07.2021

NOTE

The XYZ Institute, under the Government of India as our institute is a newly established organization I would like to bring forward some suggestions to ensure a transparent and efficient tendering process for procurement of goods.

The suggestions are as follows:

1. A committee shall be formed for the purpose of decision making and it shall remain confidential within the institute.
2. Strictly adhering the rules and regulations mentioned in the GeM portal and Committee shall give check on the process on sudden basis in order to avoid fraud cases.
3. Formulation of rules and regulations as per the institute policy shall be done by the committee.
4. Only registered suppliers shall be given opportunity to bid so as to maintain the transparency.
5. Advertisement for the invitation of tender shall be published in website and newspaper so to give fair chances to the suppliers.
6. All the bids shall be collected only in the office of CAO for the confidentiality purpose.
7. A portal shall be formed in the ERP system strictly for the purpose of store purchase.
8. Proposal of tender shall take place in the ERP portal of the institute.
9. Records of assets shall be maintained in the ERP portal and should be evaluated every year by the store purchase team.
10. All the demands of the institute shall be input in the portal to understand the current status and need of assets/ goods.

ABC Employee name and
Designation (signed)

To,
The Chief Administrative Officer
XYZ Institute.

Copy to:

1. PS/Ps of the Chief administrative Officer



National Institute of Design, Madhya Pradesh

Application No.																
N	I	D	M	P	/	A	S	A	D	M	/	0	0	8	9	6
Instructions:												0	0	0	0	0
1. To darken circle, use Black/Blue Ball Pen only.												1	1	1	1	1
2. Don't fold or make unnecessary marks on the sheet.												2	2	2	2	2
3. Don't do any kind of rough work on the answer sheet.												3	3	3	3	3
4. Each question has only one correct answer.												4	4	4	4	4
5. Correct Answer: 01 Marks ; Wrong Answer: -0.25 Marks												5	5	5	5	5
6. Darken the circle completely.												6	6	6	6	6
Correct Method:						Wrong Method:						7	7	7	7	7
												8	8	8	8	8
												9	9	9	9	9

Name	SAROJ VERMA
DOB	26 / 03 / 1992
Exam Date	08 / 07 / 2021
Post Name	Assistant Administrative Officer
Paper Code	00896
Candidate's Signature	Invigilator's Signature

1						41						81						121					
2						42						82						122					
3						43						83						123					
4						44						84						124					
5						45						85						125					
6						46						86						126					
7						47						87						127					
8						48						88						128					
9						49						89						129					
10						50						90						130					
11						51						91						131					
12						52						92						132					
13						53						93						133					
14						54						94						134					
15						55						95						135					
16						56						96						136					
17						57						97						137					
18						58						98						138					
19						59						99						139					
20						60						100						140					
21						61						101						141					
22						62						102						142					
23						63						103						143					
24						64						104						144					
25						65						105						145					
26						66						106						146					
27						67						107						147					
28						68						108						148					
29						69						109						149					
30						70						110						150					
31						71						111						151					
32						72						112						152					
33						73						113						153					
34						74						114						154					
35						75						115						155					
36						76						116						156					
37						77						117						157					
38						78						118						158					
39						79						119						159					
40						80						120						160					


सहायक प्रशासनिक अधिकारी पद के लिये उपस्थित अभ्यर्थियों की कौशल परीक्षा की स्थिति

Sl. No.	Application Number	Result of Skill Test
1	NIDMP/ASADM/00043	Qualified
2	NIDMP/ASADM/00059	Qualified
3	NIDMP/ASADM/00112	Qualified
4	NIDMP/ASADM/00141	Not Qualified
5	NIDMP/ASADM/00158	Not Qualified
6	NIDMP/ASADM/00171	Qualified
7	NIDMP/ASADM/00226	Qualified
8	NIDMP/ASADM/00416	Not Qualified
9	NIDMP/ASADM/00616	Not Qualified
10	NIDMP/ASADM/00672	Qualified
11	NIDMP/ASADM/00754	Qualified
12	NIDMP/ASADM/00773	Qualified
13	NIDMP/ASADM/00794	Qualified
14	NIDMP/ASADM/00811	Not Qualified
15	NIDMP/ASADM/01149	Not Qualified
16	NIDMP/ASADM/01400	Qualified
17	NIDMP/ASADM/01442	Qualified
18	NIDMP/ASADM/01524	Qualified
19	NIDMP/ASADM/01600	Qualified
20	NIDMP/ASADM/01678	Qualified
21	NIDMP/ASADM/01711	Qualified
22	NIDMP/ASADM/01831	Not Qualified

सहायक लोक सूचना अधिकारी
राष्ट्रीय डिजाइन संस्थान मध्य प्रदेश

- अधीक्षक पद पर सीधी भर्ती परीक्षा में प्राप्तांक के आधार पर कौशल परीक्षा हेतु शोर्टलिस्ट किये गये अभ्यर्थियों की वरियता सूची एवं कौशल परीक्षा की स्थिति

Sl. No.	Application Number	Total Marks (Max.120)	Result of Skill Test
1	NIDMP/SUPDT/00022	79.00	Qualified
2	NIDMP/SUPDT/00621	79.00	Absent
3	NIDMP/SUPDT/00654	75.25	Qualified
4	NIDMP/SUPDT/00622	74.50	Qualified
5	NIDMP/SUPDT/00795	74.50	Qualified
6	NIDMP/SUPDT/00054	74.25	Qualified
7	NIDMP/SUPDT/00357	72.00	Qualified
8	NIDMP/SUPDT/00607	71.00	Qualified
9	NIDMP/SUPDT/00660	69.50	Qualified
10	NIDMP/SUPDT/00664	66.50	Not Qualified
11	NIDMP/SUPDT/00078	66.25	Qualified
12	NIDMP/SUPDT/00172	66.00	Qualified
13	NIDMP/SUPDT/00170	65.00	Qualified
14	NIDMP/SUPDT/00493	64.00	Qualified



सहायक लोक सूचना अधिकारी
राष्ट्रीय डिजाइन संस्थान मध्य प्रदेश